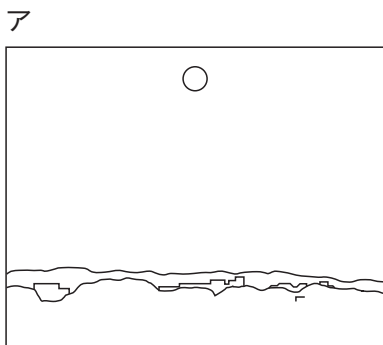


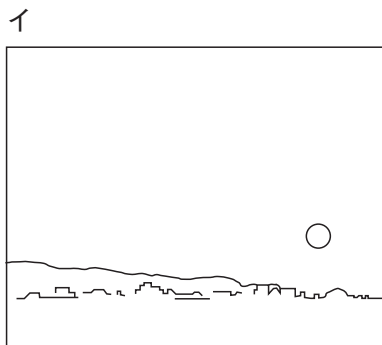
月や星の動きについてまとめよう

○下のア～ウの図を、月が動く順（じゆん）にならびかえましょう。

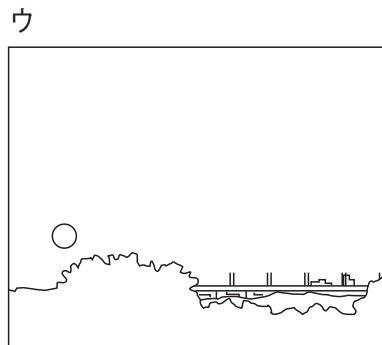
(→ →)



南

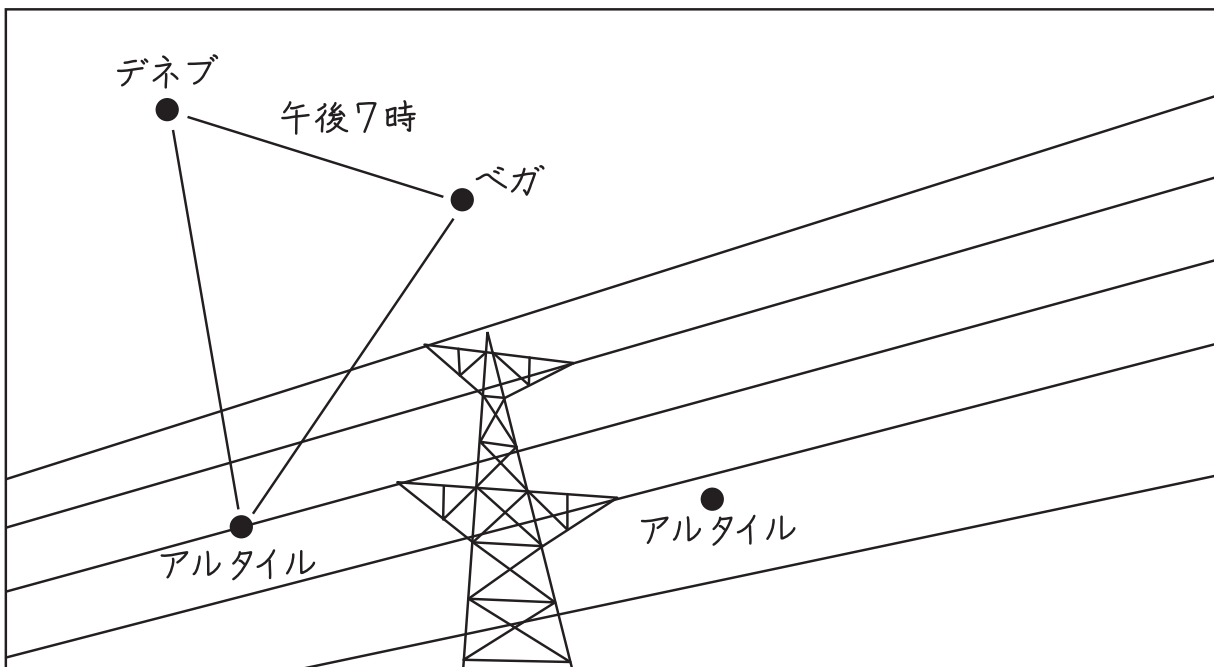


西



東

○下の観察記録（かんさつきろく）の図には9月15日の午後7時に観察した夏の
大三角がかかれています。このあと、午後9時にも夏の
大三角を観察しました。観察記録にはアルタイルだけが
かかれています。この観察記録を完成（かんせい）させましょう。



← 東

南

西 →