


のこりは いくつ ①


1ねん

な
ま
ま
え
く
み


◆のこりは いくつ



ことりが **3** わいます。



2 わとんでいきました。



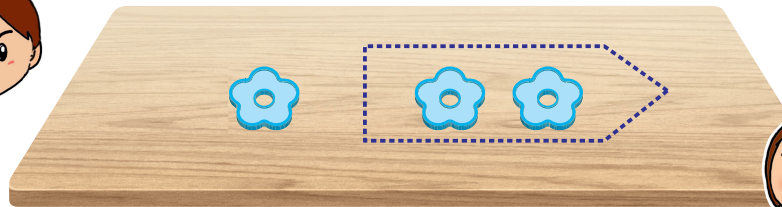
のこりは **1** わになりました。



ことりは なんわ のこっているでしょうか。

① おはなしをしながら おはじきを うごかして、ひきざんの しきにかきましょう。

はじめに
3わ いて



2わ とんでいくと



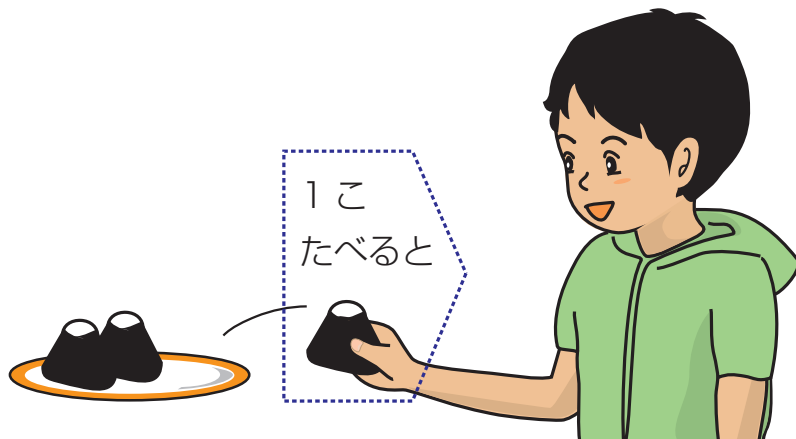
しき **3** - **2** = **1**

こたえ **1** わ



のこりは なんこになるでしょうか。

ひきざんの しきにかいて、こたえをもとめましょう。



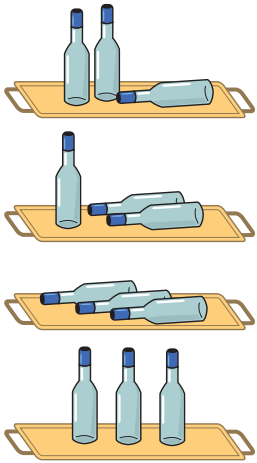
しき **3 - 1 = 2**

こたえ **2** こ

◆ 0のひきざん



のこりは いくつに なるでしょうか。
ひきざんの しきに かいて, こたえを もとめましょう。



$$3 - 1 = 2$$

$$3 - 2 = 1$$

$$3 - 3 = 0$$

$$3 - 0 = 3$$

ぜんぶ たおれたら,
たっている びん
かずは 0ほんだね。




1ぽんも たおれなかつた
ことを 0と あらわすよ。

◆ ひきざんの れんしゅう



□に かずや ことばを かいて, $7-4$ の しきになる
ひきざんの もんだいを つくりましょう。



ささぶねが 7 そう ありました。

4 そう ながしました。

のこり は なんそう でしょうか。

しき $7 - 4 = 3$

こたえ 3 そう

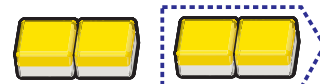


けいさんを しましょう。

① $5 - 1 = 4$



② $4 - 2 = 2$



③ $8 - 2 = 6$

④ $6 - 5 = 1$

⑤ $9 - 7 = 2$

⑥ $10 - 3 = 7$