


どれだけ おおい ①

1ねん	な ま ま え
	く み え

◆どれだけ おおい




ぬいぐるみは ろぼっとより
なんこ おおいでしょうか。



おおい。

- ① ぬいぐるみ は 個です。
- ② ろぼっと は 個です。
- ③ かずが おおいは です。
- ④ 個 おおいです。



どれだけ おおいかも
ひきざんで もとめられるね。




しき - =

こたえ 個

◆ちがいは いくつ




くるまと じてんしゃの かずの
ちがいは なんだいでしょうか。



ちがひ。

- ① くるま は だいです。
- ② じてんしゃ は だいです。
- ③ かずが おおいは です。
- ④ ちがひは だいです。



いくつ ちがうかも
ひきざんで もとめられるね。



しき - =

こたえ だい

どれだけ おおい ②

1ねん

な
ま
ま
え
く
み

◆れんしゅう

① きんぎょすくいを しました。まいさんは 5ひき、
ゆうたさんは 7ひき すくいました。


どちらが なんびき おおく すくったでしょうか。

しき

こたえ

が

ひき おおい。



まい



ゆうた

おはじきや ^ぶろ^っく
をおいて かんがえよう。

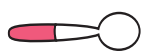



② ^すぶ^うんが 4ほん, ^ふお^おくが 8ほん あります。
ちがいは なんぼんでしょうか。

しき

こたえ

ほん



^すぶ^うん
スプーン



^ふお^おく
フォーク

おはじきや ^ぶろ^っく
をおいて かんがえよう。

