

10より大きいかず ①


1ねん	な ま ま え
	く み え

◆いくつ あるかな

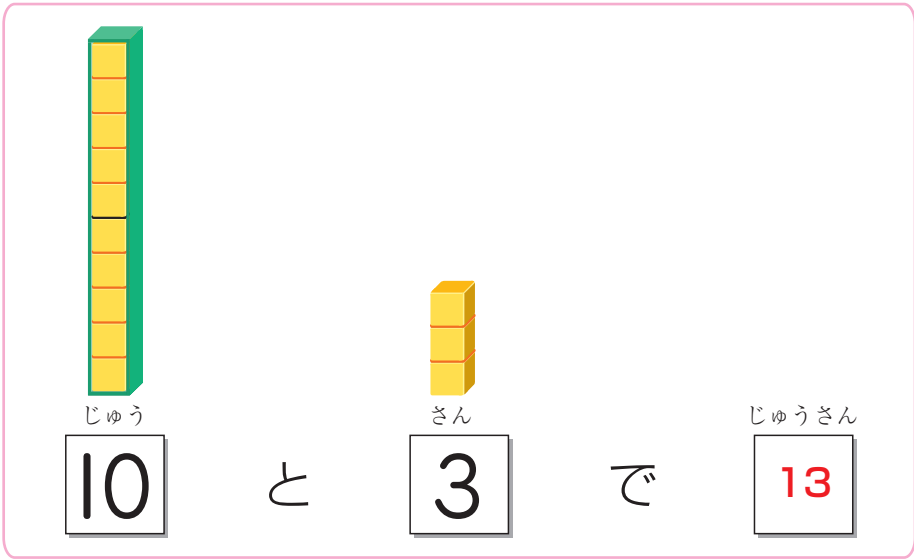
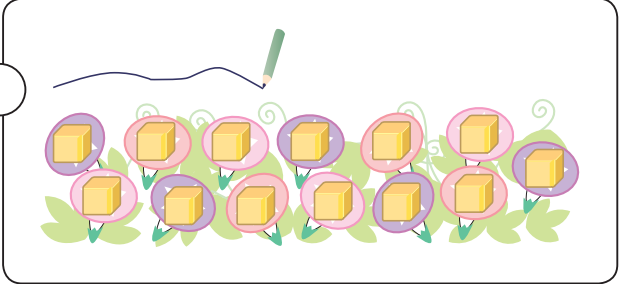


あさがおの ^{はな}花は いくつ さいているでしょうか。

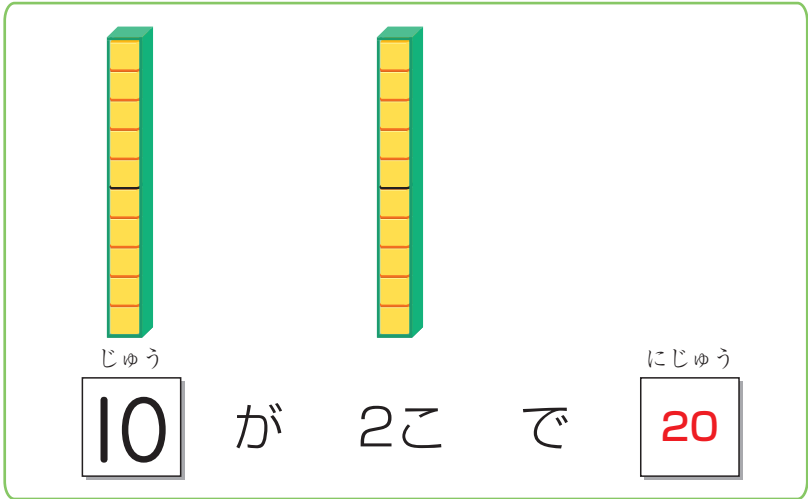
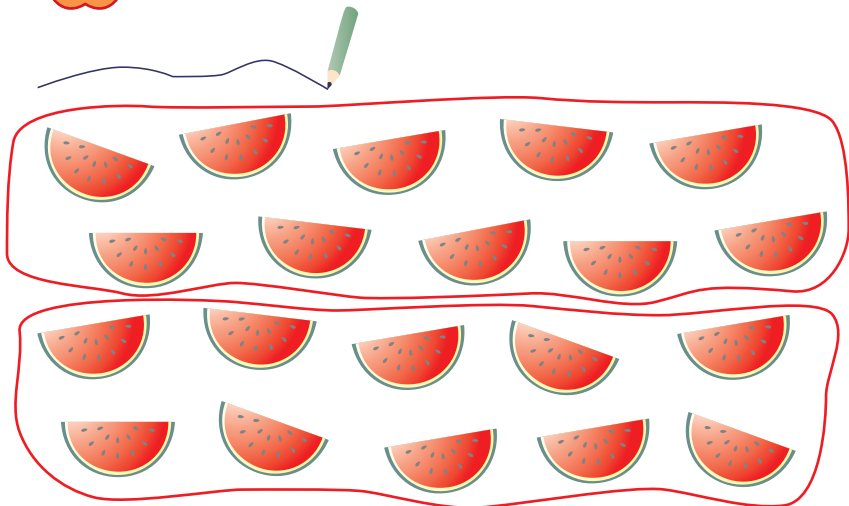
① ブロックをおきながら かずをかぞえましょう。



10になったら、
まとまりを
つくろう。




すいかは いくつ あるでしょうか。




10より大きいかず ②


1ねん な
ま
ま
え

 **いくつ あるでしょうか。**



 10のまとまりをつくってかぞえると…。

10 と 2 で 12



10 と 5 で 15

③ 10 と 4 で 14

④ 18 は 10 と 8

⑤ 10 と 9 で 19

⑥ 16 は 10 と 6


⑦ 10 と 1 で 11

⑧ 17 は 10 と 7

⑨ 20 と 3 で 23

⑩ 32 は 30 と 2

 **□にあてはまるかずをかきましょう。**

 みぎ右にいくほどかずが おお大きくなるね。

- 10
- 11
- 12
- 13
- 14
- 15
- 16
- 17
- 18
- 19
- 20
- 21
- 22
- 23

10より大きいかず ③

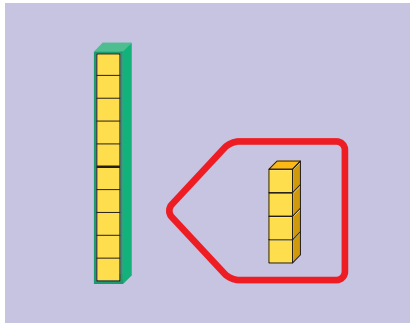
1ねん

な
ま
ま
え
く
み

◆たしざんと ひきざん



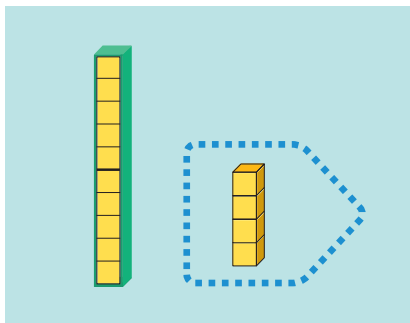
10に4をたしたかずを、しきにあらわしましょう。



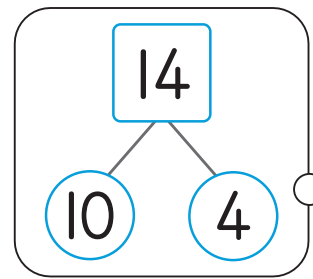
$$10 + 4 = 14$$



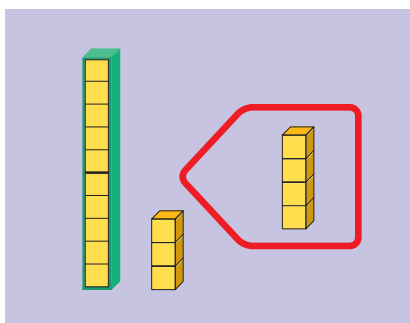
14から4をひいたかずを、しきにあらわしましょう。



$$14 - 4 = 10$$



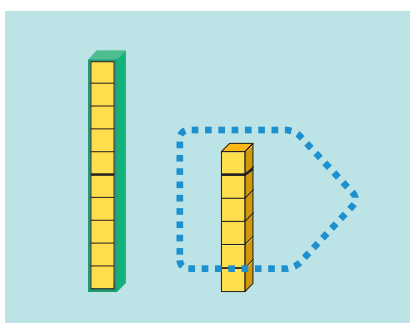
13 + 4のけいさんのしかたをかんがえましょう。



$$13 + 4 = 17$$



16 - 5のけいさんのしかたをかんがえましょう。



$$16 - 5 = 11$$

6から5をひいて…。

