

3つのかずのたしざん, ひきざん


1ねん

な
ま
ま
え
く
み

◆ 3つのかずのたしざん




りすは みんなで なんびきに なったでしょうか。




はじめに

4ひき のっていました。



3びき のりました。



2ひき のりました。

$$\square + \square + \square = \square$$

じゅんに たして いくと、
ぜんぶで なんびきに
なったか わかるね。



3びき
ふえると...



また 2ひき
ふえると...

$$4 + 3 = \square$$

$$\square + 2 = \square$$




こたえ \square ひき

◆ 3つのかずのひきざん




くるみの のこりは なんこに なったでしょうか。




はじめに

9こ ありました。



2こ おちました。



3こ おちました。

$$\square - \square - \square = \square$$

じゅんに ひいて いくと、
のこりは なんこに
なったか わかるね。



2こ
へると...



また 3こ
へると...

$$9 - 2 = \square$$

$$\square - 3 = \square$$



こたえ \square こ