

たしざん ①


1ねん

なまえ
くみえ

◆くり上がりの ある たしざん



さくの ^{なか}中に ひつじが 9とう いました。
4とう きました。
ぜんぶで なんとなく になった でしょうか。



しき

こたえ

とう

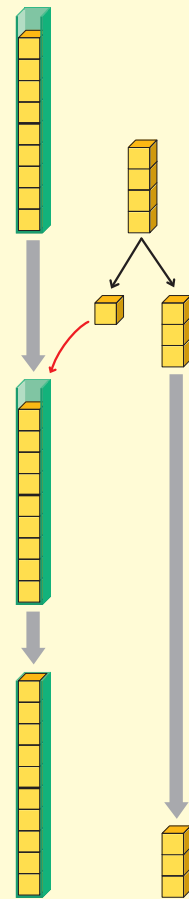
9 + 4 の けいさんの しかた

① 9は あと で 10。

② 10をつくる ために
4を と に わける。

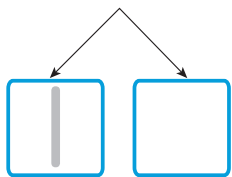
③ 9と で 10。

④ 10と のこりの で、
あわせて 。



◆れんしゅう

① $9 + 3 = \square$



・ 9は あと で 10。

・ 3を と に わける。

・ 9と で 10。

・ 10と で 。

② $9 + 2 = \square$

③ $7 + 4 = \square$

④ $3 + 9 = \square$

⑤ $4 + 8 = \square$

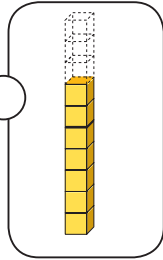


7 + 9 の けいさんの しかたを かんがえましょう。

7は あといくつで
10になるかな。



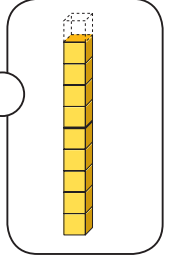
ゆうた



9は あといくつで
10になるかな。

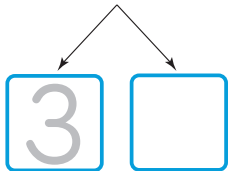


まい



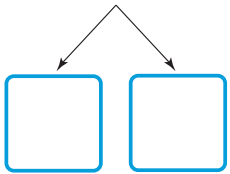
① ゆうたさんの かんがえで けいさんを しましょう。

$$7 + 9 = \square$$



② まいさんの かんがえで けいさんを しましょう。

$$7 + 9 = \square$$



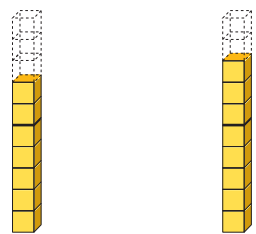
どちらの かんがえも
10の まとまりを
つくっているね。



かんがえやすい ほうで
けいさんすれば いいよ。

◆れんしゅう

① $7 + 8 = \square$



② $6 + 9 = \square$

③ $8 + 6 = \square$

④ $6 + 7 = \square$

⑤ $9 + 9 = \square$