

# たしざん ①


1ねん

なまえ  
くみえ

## ◆くり上がりの ある たしざん



さくの <sup>なか</sup>中に ひつじが 9とう いました。  
4とう きました。  
ぜんぶで なんとなく になった でしょうか。



しき

$$9 + 4 = 13$$

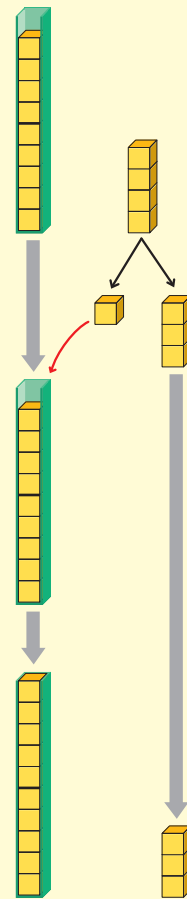
こたえ

13

とう

### 9 + 4 の けいさんの しかた

- ① 9は あと **1** で 10。
- ② 10をつくる ために  
4を **1** と **3** に わける。
- ③ 9と **1** で 10。
- ④ 10と のこりの **3** で、  
あわせて **13** 。



## ◆れんしゅう

$$\textcircled{1} \quad 9 + 3 = 12$$

- ・ 9は あと **1** で 10。
- ・ 3を **1** と **2** に わける。
- ・ 9と **1** で 10。
- ・ 10と **2** で **12** 。

$$\textcircled{2} \quad 9 + 2 = 11$$

$$\textcircled{3} \quad 7 + 4 = 11$$

$$\textcircled{4} \quad 3 + 9 = 12$$

$$\textcircled{5} \quad 4 + 8 = 12$$

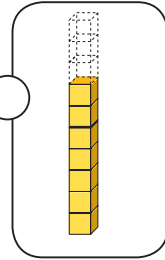


7 + 9 の けいさんの しかたを かんがえましょう。

7は あといくつで 10になるかな。



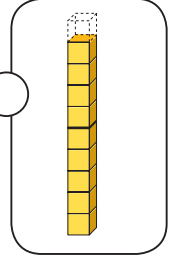
ゆうた



9は あといくつで 10になるかな。



まい



① ゆうたさんの かんがえで けいさんを しましょう。

$$7 + 9 = 16$$

3   6

② まいさんの かんがえで けいさんを しましょう。

$$7 + 9 = 16$$

6   1

どちらの かんがえも 10の まとまりを つくっているね。



かんがえやすい ほうで けいさんすれば いいよ。

◆れんしゅう

①  $7 + 8 = 15$

②  $6 + 9 = 15$

③  $8 + 6 = 14$

④  $6 + 7 = 13$

⑤  $9 + 9 = 18$