

ひきざん ①

1ねん

な
ま
ま
え
く
み

◆くり下がりの ある ひきざん



ぎゅうにゅうが 12本^{ほん} ありました。
9本^{ほん} くばりました。
のこりは なん本^{ほん} でしょうか。



しき

$$12 - 9 = 3$$

こたえ

3

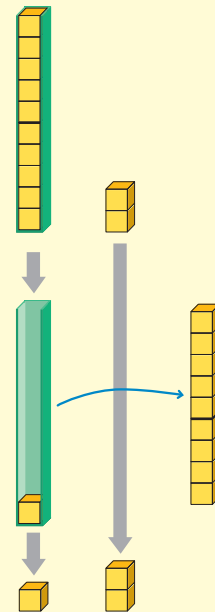
ほん
本

12 - 9 の けいさんの しかた

① 12は 10と 2。

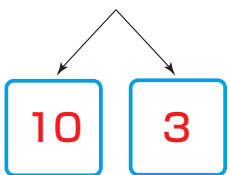
② 10の まとまりから
9を ひくと、のこりは 1。

③ 10 - 9で のこった 1と
12を わけた 2を たして 3。



◆れんしゅう

$$\textcircled{1} \quad 13 - 9 = 4$$



- ・ 13は 10と 3。
- ・ 10から 9を ひいて 1。
- ・ 1に 3を たして 4。

$$\textcircled{2} \quad 14 - 8 = 6$$

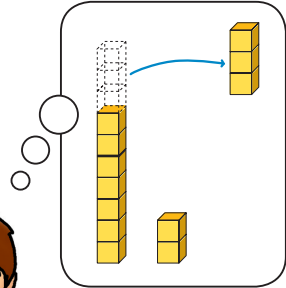
$$\textcircled{3} \quad 11 - 7 = 4$$

$$\textcircled{4} \quad 15 - 9 = 6$$

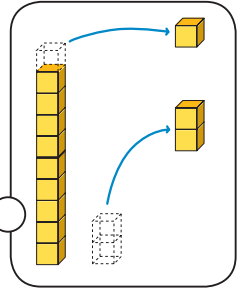
$$\textcircled{5} \quad 12 - 8 = 4$$



12 - 3 の けいさんの しかたを かんがえましょう。

12を10と2に
わけて10から
3をひくと...

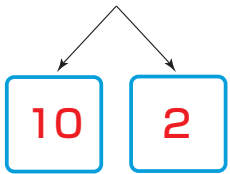
ゆうた

はじめに12から2を
ひいてのこった10から
1をひくと...

まい

① ゆうたさんの かんがえで けいさんを しましょう。

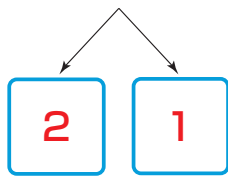
$$12 - 3 = \boxed{9}$$



- ・ 12は10と $\boxed{2}$ 。
- ・ 10から $\boxed{3}$ をひいて $\boxed{7}$ 。
- ・ $\boxed{7}$ と $\boxed{2}$ をたして $\boxed{9}$ 。

② まいさんの かんがえで けいさんを しましょう。

$$12 - 3 = \boxed{9}$$




- ・ はじめに12から2を
ひいて $\boxed{10}$ 。
- ・ のこった10から $\boxed{1}$ を
ひいて $\boxed{9}$ 。

どちらから
先にひいても 答えは
おなじだね。かんがえやすい ほうで
けいさんすれば いいよ。

◆れんしゅう

① $11 - 3 = \boxed{8}$



② $13 - 4 = \boxed{9}$

③ $14 - 5 = \boxed{9}$

④ $12 - 6 = \boxed{6}$

⑤ $16 - 8 = \boxed{8}$