


大きな かず ①

1ねん

な
ま
く
み
え



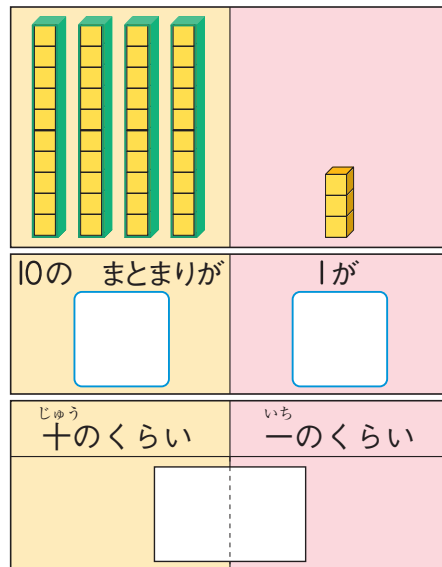
あさがおの たねは いくつ あるでしょうか。



10の まとまりをつくると
かぞえやすいね。



① 10の まとまりが こと、
1が こ あります。




いくつ でしょうか。

① 10が こと、1が こで

② 59より 1 ^{おお} 大きい かずは
59より 1 ^{ちい} 小さい かずは



57 59 61



③ ボタンは ぜんぶで こ あります。



10の まとまりが
10こ あるね。




④ 100は 99より ^{おお} 大きい かずです。

◆ 100 より 大きい かず



チューリップの ^{はな}花は ぜんぶで なんこ あるでしょうか。



① さいて いる ^{はな}花は こ

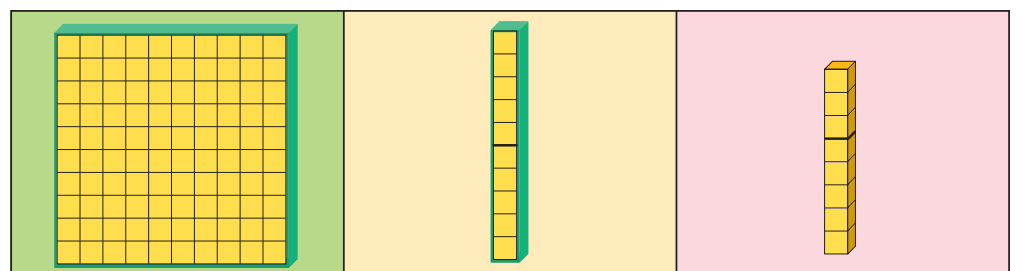
② つぼみの ^{はな}花は こ

③ ぜんぶで ^{はな}花は こ



10のまとまりが
10こで 100だね。

100と 18を あわせた
かずと おなじだね。



100が 1こ

10が こ

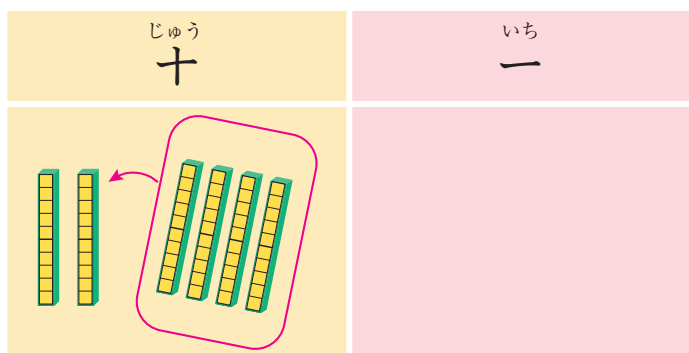
1が こ

1 | 1 | 8

◆何十の たしざんと ひきざん



おりがみを 20まい もっています。そこへ 40まい
もらうと、ぜんぶで なんまいになるでしょうか。

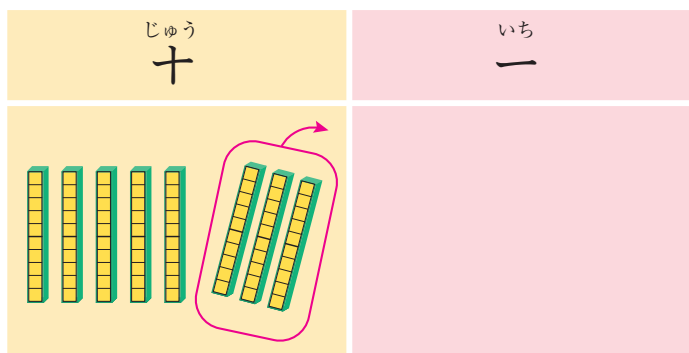


$$20 + 40 = \square$$

10を もとに
すると…。



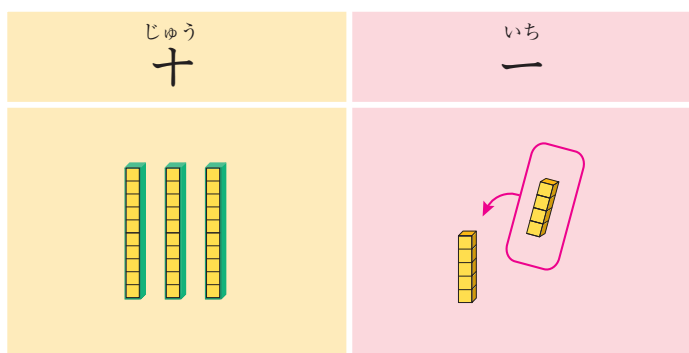
80-30の けいさんの しかたを かんがえましょう。



$$80 - 30 = \square$$



おりがみを 35まい もっています。そこへ 4まい
もらうと、ぜんぶで なんまいになるでしょうか。

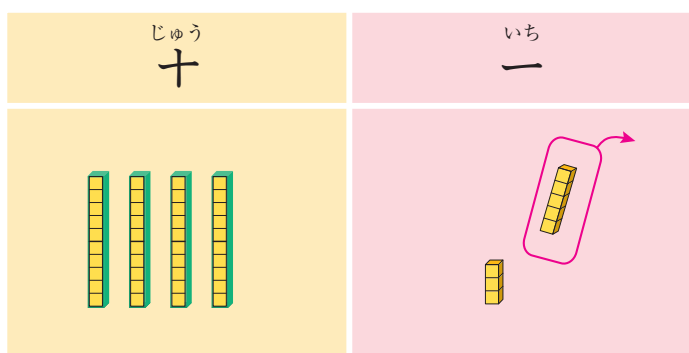


$$35 + 4 = \square$$

いち
一のくらのいの
けいさんが…。



48-5の けいさんの しかたを かんがえましょう。



$$48 - 5 = \square$$