


# 大きな かず ①

1ねん

な  
ま  
く  
み  
え



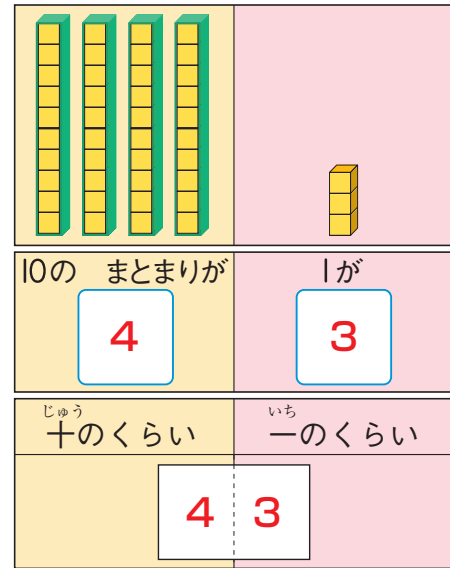
あさがおの たねは いくつ あるでしょうか。



10のまとまりをつくるとかぞえやすいね。



① 10のまとまりが **4** こと、  
1が **3** こ あります。




いくつ でしょうか。

① 10が **5** こと、1が **9** こで **59**

② 59より <sup>おお</sup>1 大きい かずは **60**  
59より <sup>ちい</sup>1 小さい かずは **58**




57 58 59 60 61



③ ボタンは ぜんぶで **100** こ あります。



10のまとまりが  
10こ あるね。




④ 100は 99より **1** <sup>おお</sup>大きい かずです。

◆ 100 より 大きい かず



チューリップの <sup>はな</sup>花は ぜんぶで なんこ あるでしょうか。



① さいていいる <sup>はな</sup>花は  こ

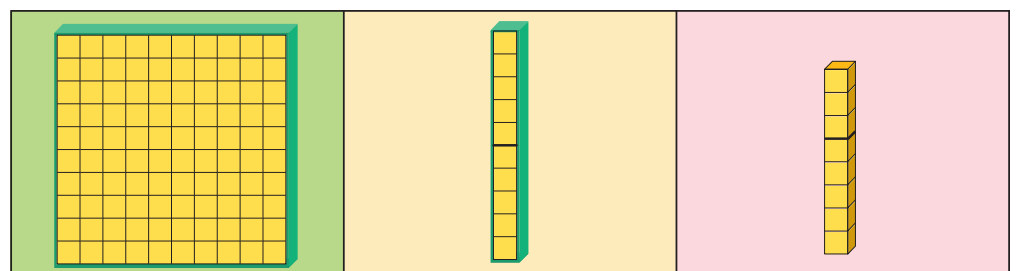
② つぼみの <sup>はな</sup>花は  こ

③ ぜんぶで <sup>はな</sup>花は  こ



10のまとまりが  
10こで 100だね。

100と 18を あわせた  
かずと おなじだね。



100が 1こ

10が  こ

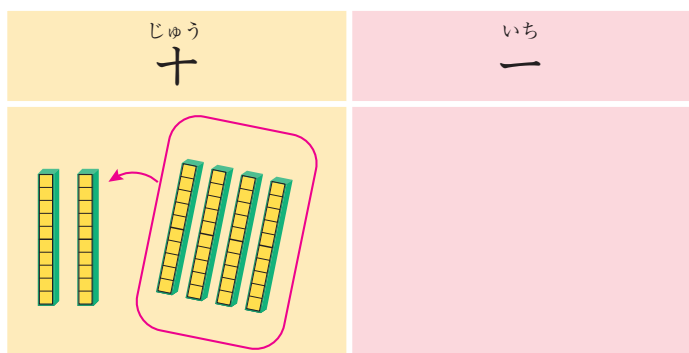
1が  こ

|  |

◆何十の たしざんと ひきざん



おりがみを 20まい もっています。そこへ 40まい  
もらうと、ぜんぶで なんまいになるでしょうか。

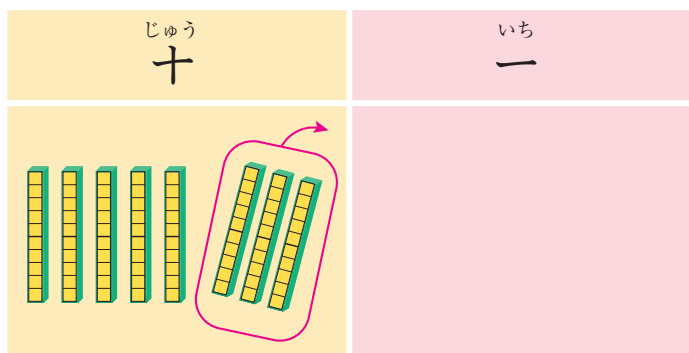


$$20 + 40 = 60$$

10を もとに  
すると…。



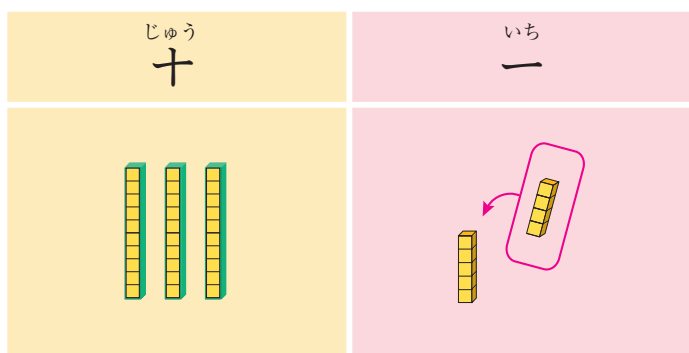
80-30の けいさんの しかたを かんがえましょう。



$$80 - 30 = 50$$



おりがみを 35まい もっています。そこへ 4まい  
もらうと、ぜんぶで なんまいになるでしょうか。

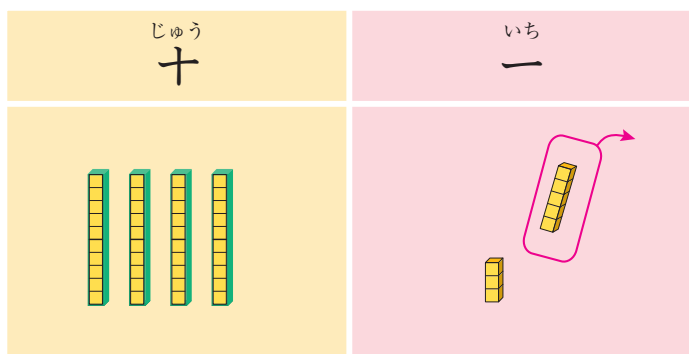


$$35 + 4 = 39$$

いち  
一のくらのいの  
けいさんが…。



48-5の けいさんの しかたを かんがえましょう。



$$48 - 5 = 43$$