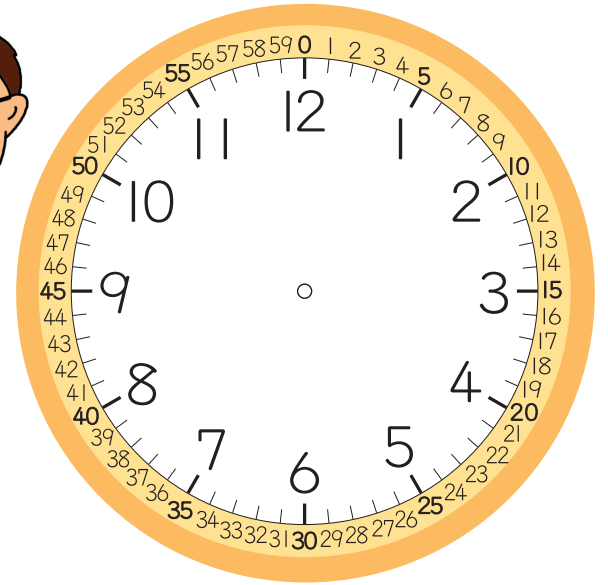


なんじ なんぷん

1ねん

な
ま
ま
え
く
み

1めもりが1ぷんをあらわしているよ。
とけいのまわりのちい小さいめもりは
0ぷんから59ぷんまでを
あらわしているよ。



した下のとけいはなんじなんぷんを
あらわしているでしょうか。



8じ 5ぷん



3じ 10ぷん



6じ 57ぷん



みじかいはりは「なんじ」を、
ながいはりは「なんぷん」を
あらわしているよ。

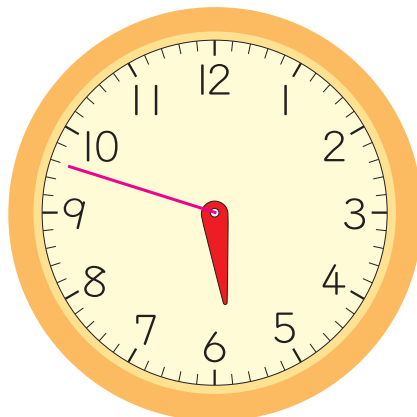
6じをすぎるとみじかいはり
はりは7じに
ちかづいていくね。



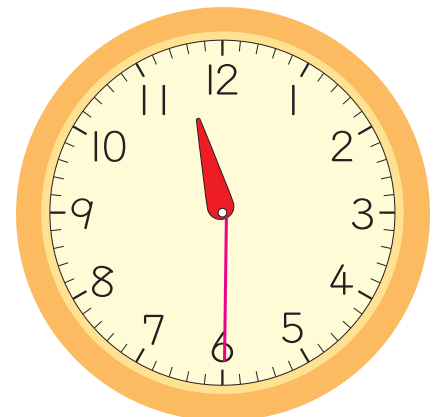
ながいはりをかいて、とけいをかんせいさせましょう。



2じ 25ぷん



5:48



11じはん



デジタルどけいでは、5:00を
5じとよむよ。