

どんな しきになるかな ①

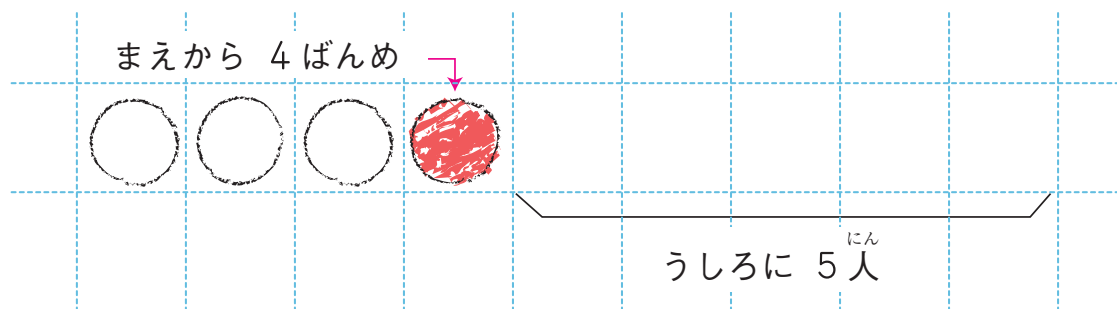
1ねん

なまえ
くみえ

◆じゅんばんの かずの けいさん



あゆみさんは まえから 4ばんめに います。
あゆみさんの うしろに 5人^{にん} います。
みんなで なん^{にん}人 いるでしょうか。



○を かいて
かんがえよう。

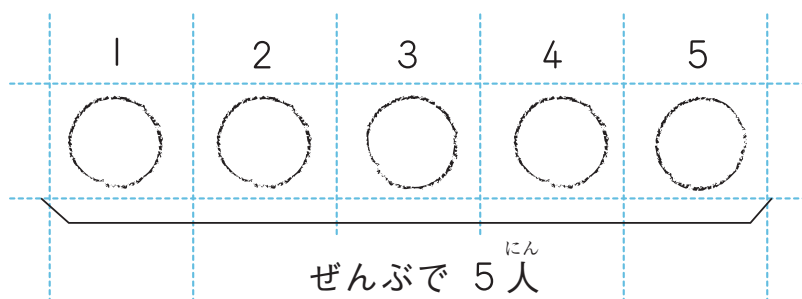


しき

こたえ 人^{にん}



5人^{にん}で きょうそうしました。
ひろしさんは 2ちゃくでした。
ひろしさんの うしろに なん^{にん}人 いたでしょうか。



まえから 2こぶんの
○を ゆびで
かくしてみよう。



しき

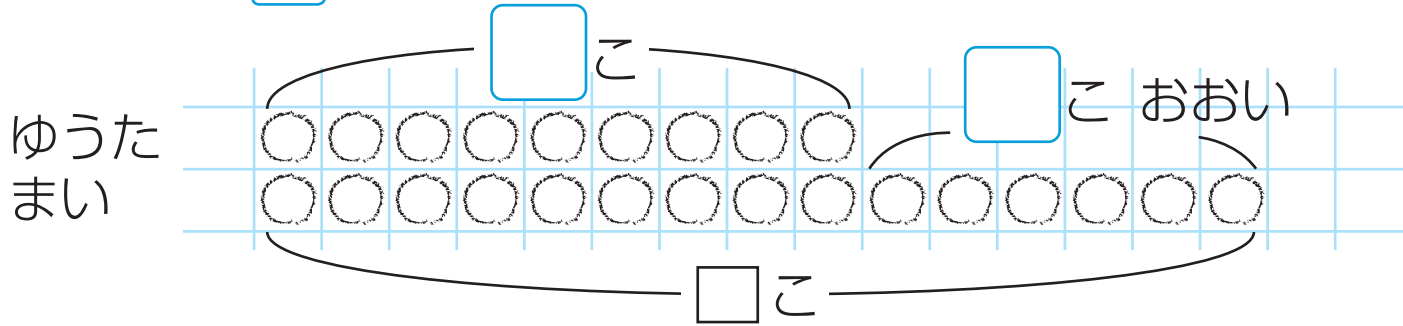
こたえ 人^{にん}

◆ちがいを かんがえる けいさん



ゆうたさんは いちごを 9こ 取りました。まいさんは ゆうたさんより 6こ おおく 取りました。まいさんは いちごを なんこ とったのでしょうか。

① 下の ずの に あてはまる かずを かきましょう。



② まいさんの いちごの かずは、ゆうたさんの いちごの かずに を たした かずです。

③ まいさんの いちごの かずを もとめましょう。

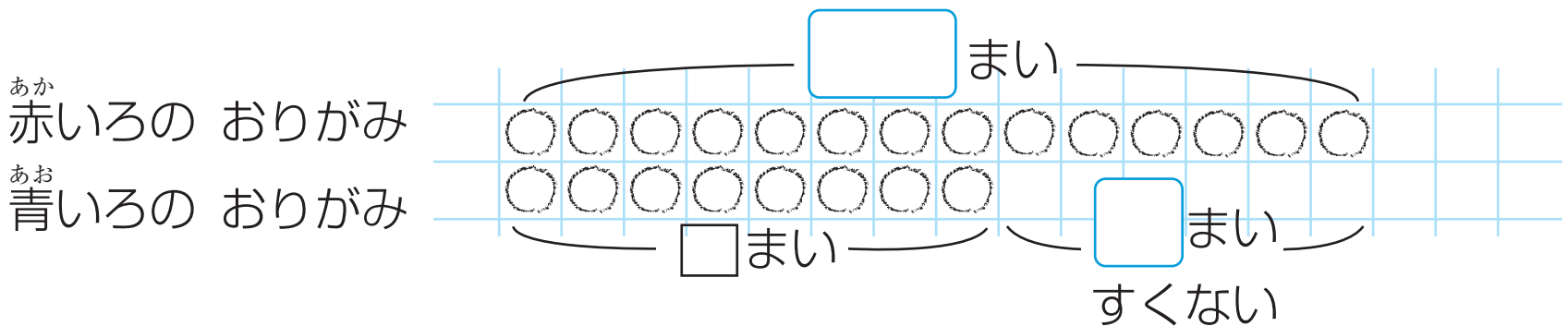
しき

こたえ こ



^{あか}赤いろの おりがみが 14まい あります。^{あお}青いろの おりがみは ^{あか}赤いろの おりがみより 6まい すくないです。^{あお}青いろの おりがみは なんまい あるのでしょうか。

① 下の ずの に あてはまる かずを かきましょう。



② ^{あお}青いろの おりがみの かずは、^{あか}赤いろの おりがみの かずから を ひいた かずです。

③ ^{あお}青いろの おりがみの かずを もとめましょう。

しき

こたえ まい