



2年	名	
	組	前




絵を見て花の数をしらべて、グラフや表にまとめましょう。



すいせん 本



チューリップ 本



ばら 本



たんぽぽ 本

① 花の数をグラフにあらわしましょう。

花の数しらべ

○			
○			
○			
○			
すいせん	チューリップ	ばら	たんぽぽ

グラフにあらわすと、どの花が多いか見ただけでわかるね。



① 数がいちばん多いのはどの花ですか。

② チューリップはばらより何本多いですか。

③ 数がいちばん少ないのはどの花ですか。

② どの花が何本あるか、表に書きましょう。

花の名前			たんぽぽ
本数 (本)	4	8	



花の数が多いじゅんに花の名前を言ってみよう。

表にあらわすと、数がわかりやすくなるね。

