



2年	名	
	組	前




絵を見て花の数をしらべて、グラフや表にまとめましょう。



すいせん 4本



チューリップ 8本



ばら 5本



たんぽぽ 6本

① 花の数をグラフにあらわしましょう。

花の数しらべ

	○		
	○		
	○		○
	○	○	○
○	○	○	○
○	○	○	○
○	○	○	○
○	○	○	○
すいせん	チューリップ	ばら	たんぽぽ

グラフにあらわすと、どの花が多いか見ただけでわかるね。



① 数がいちばん多いのはどの花ですか。

チューリップ

② チューリップはばらより何本多いですか。

3本

③ 数がいちばん少ないのはどの花ですか。

すいせん

② どの花が何本あるか、表に書きましょう。

花の名前	すいせん	チューリップ	ばら	たんぽぽ
本数 (本)	4	8	5	6



花の数が多いじゅんに花の名前を言ってみよう。

表にあらわすと、数がわかりやすくなるね。

