

2年	名	
	組前	



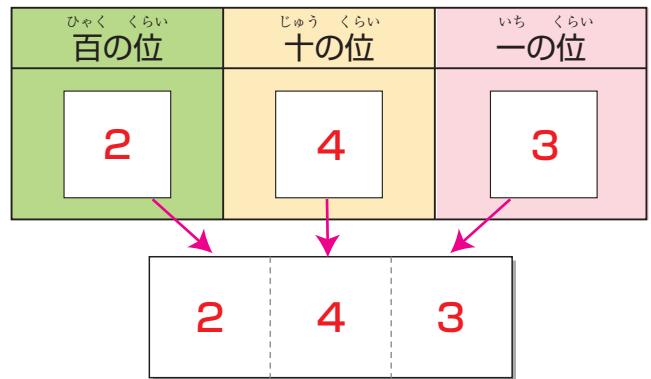
◆数のあらし方

はな なん  
花は 何こ あるでしょうか。

① 100のたば, 10のたば,  
1のたばが, それぞれ 何こ  
あるでしょうか。

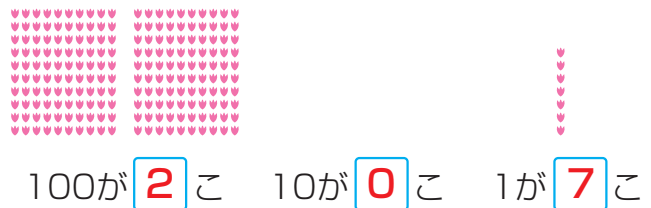


② 百の位, 十の位, 一の位の  
数字を 書きましょう。

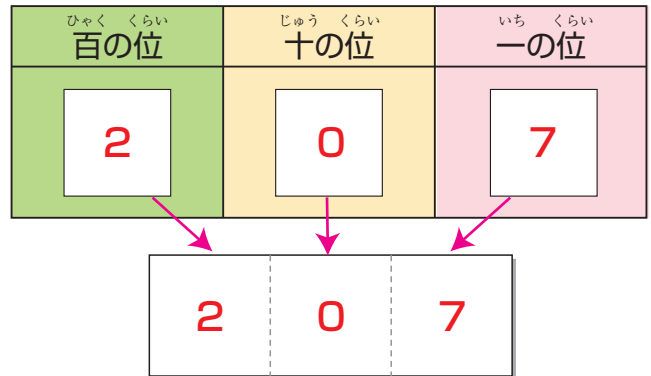


③ 花の数は, 100を2こと,  
10を4こと 1を3こ あわせた  
数で, **243** です。

④ 100のたば, 10のたば,  
1のたばが, それぞれ 何こ  
あるでしょうか。



⑤ 百の位, 十の位, 一の位の  
数字を 書きましょう。



⑥ 花の数は, 100を2こと,  
10を0こと 1を7こ あわせた  
数で, **207** です。

# 100より大きい数 ②

(教科書 71～74 ページ)

2年

名

組前



にあてはまることばやしるしをかきましょう。


① 598と589の大小は、の位の数字を見るとわかります。

ひゃく くらい 百の位	じゅう くらい 十の位	いち くらい 一の位
5	9	8
5	8	9

②  $>$ ,  $<$ のしるしをつかってあらわすと、598  589になります。



下の数の線を見て答えましょう。



① いちばん小さい1めもりは、をあらわしています。

② 数の線の  にあてはまる数をきましょう。

③ 100を3こと、10を9こあわせた数は、です。

④ 10を17こあつめた数は、です。


⑤ 230は10を こあつめた数です。



◆千

にあてはまる <sup>かず</sup>数を <sup>か</sup>書きましょう。

① 100を10こあつめた <sup>かず</sup>数を <sup>せん</sup>千といい、 と <sup>か</sup>書きます。



② 1000は  より1 <sup>おお</sup>大きい <sup>かず</sup>数です。

③ 1000は10を  こあつめた <sup>かず</sup>数です。



◆何十、何百の計算

60 + 80 の <sup>けいさん</sup>計算を しましょう。

$$60 + 80 = \text{140}$$



10のまとまりで <sup>かんが</sup>考えると、  
 +  だから…。



900 - 400 の <sup>けいさん</sup>計算を しましょう。

$$900 - 400 = \text{500}$$



100のまとまりで <sup>かんが</sup>考えると、  
 -  だから…。