



◆一万をこえる数

一万をこえる数の表し方やしくみを調べましょう。

□	□	□	一 万	□	□	□	—
の 位	の 位	の 位	の 位	の 位	の 位	の 位	の 位
1	2	0	6	4	1	0	1

① 上の□にあてはまる位の^{くらい}名前を書きましょう。

② 一万の位の6は、□が6こあることを^{あらわ}表しています。

③ 上の数を^{かず}漢字で^{かんじ}書きましょう。

□万 □


④ 百四万七千五百二十三を^{すうじ}数字で^か書くと □ です。

⑤ 1000 が 10こで

1万 が 10こで

10万 が 10こで

100万 が 10こで

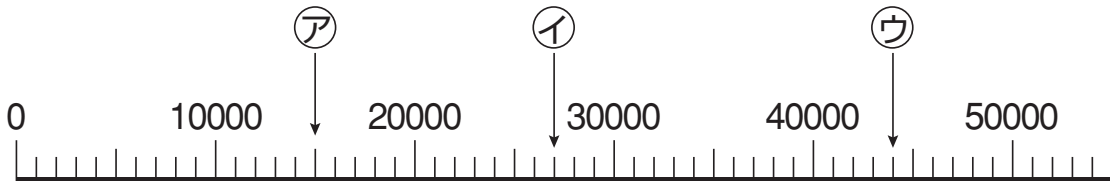


⑥ 1000万を5こと、100万を2こと、10万を4こと、1万を3こあわせた^{かず}数は □ です。



下のような数の線を といいます。

この数直線を見て、数の大きさを調べましょう。



① いちばん小さい1メモリの大きさは、 です。

② ア, イ, ウの表す数を書きましょう。

ア イ ウ

③ 140000 は 10000 を こあつめた数です。また、1000 を こあつめた数です。

1000 が 10 こで 10000,
1000 が 100 こだと…。



0 を消して
かんが
えらと…。



14	0000
1	0000
140	000
1	000



にあてはまる不等号か等号を書きましょう。

① 20000 200000

② 67498 69523

③ 30000 10000 + 20000

④ 80万 90万 - 8万

3年	名	
	組前	



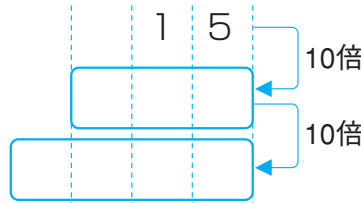
◆ 10 倍の数, 100 倍の数, 10 でわった数

にあてはまる数を書きましょう。

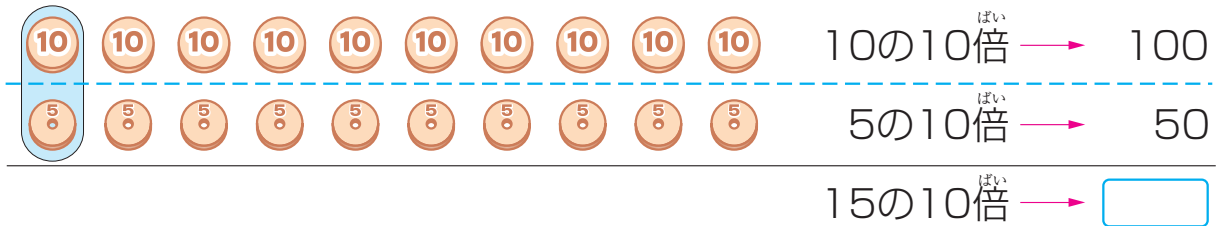
①

15を10倍した数

150を10倍した数



10 倍すると, 0 を 1 つつけた数になるね。

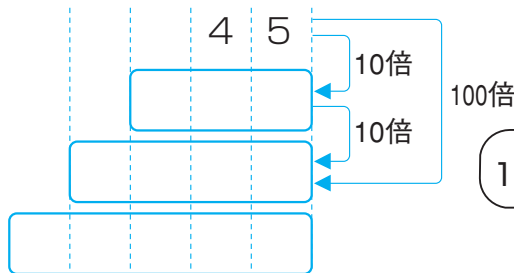


②

45を10倍した数

45を100倍した数

45を1000倍した数

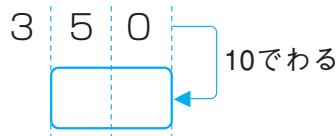


10 倍の 10 倍は 100 倍。



③

350を10でわった数



10 でわると, 0 を 1 つとった数になるね。



1000 万を 10 こあつめた数について調べましょう。



1000 万を 10 倍した数を といい, と書きます。