



◆一万をこえる数

一万をこえる数の表し方やしくみを調べましょう。

千 万	百 万	十 万	一 万	千	百	十	一
の 位	の 位	の 位	の 位	の 位	の 位	の 位	の 位
1	2	0	6	4	1	0	1

① 上の  にあてはまる位の名前を書きましょう。

② 一万の位の6は、 が6こあることを表しています。

③ 上の数を漢字で書きましょう。

万

④ 百四万七千五百二十三を数字で書くと  です。

- ⑤ 1000 が 10こで
- 1万 が 10こで
- 10万 が 10こで
- 100万 が 10こで

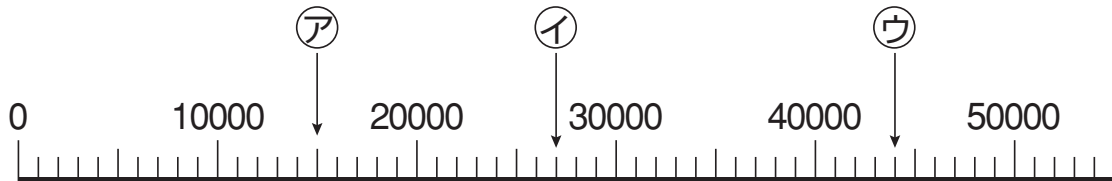
				1	0	0	0	0
				1	0	0	0	0
			1	0	0	0	0	0
	1	0	0	0	0	0	0	0

⑥ 1000万を5こ、100万を2こ、10万を4こ、1万を3こあわせた数は  です。



下のような数の線を **数直線** といいます。

この数直線を見て、数の大きさを調べましょう。



① いちばん小さい1メモリの大きさは、**1000** です。

② ア, イ, ウの表す数を書きましょう。

ア **15000**

イ **27000**

ウ **44000**

③ 140000 は 10000 を **14** こあつめた数です。また、1000 を **140** こあつめた数です。

1000 が 10 こで 10000,  
1000 が 100 こだと…。



0 を消して  
かんが  
考えると…。



14	0000
1	0000
140	000
1	000



にあてはまる不等号か等号を書きましょう。

① 20000  200000

② 67498  69523

③ 30000  10000 + 20000

④ 80万  90万 - 8万



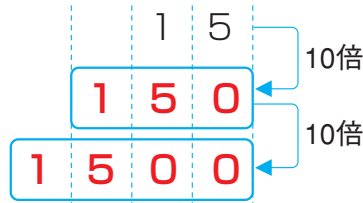
◆ 10 倍の数, 100 倍の数, 10 でわった数

□ にあてはまる数を書きましょう。

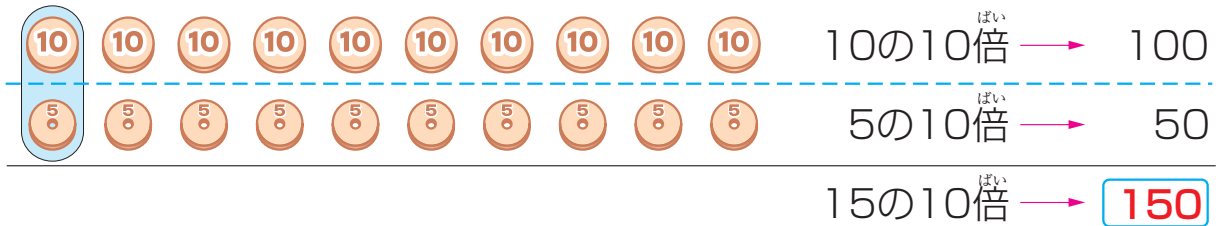
①

15を10倍した数

150を10倍した数



10倍すると, 0を1つつけた数になるね。

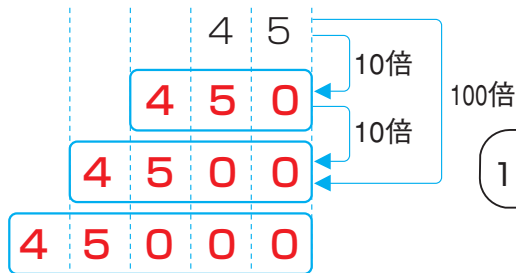


②

45を10倍した数

45を100倍した数

45を1000倍した数

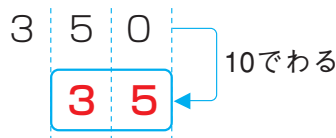


10倍の10倍は100倍。



③

350を10でわった数



10でわると, 0を1つとった数になるね。



1000万を10こあつめた数について調べましょう。



1000万を10倍した数を **一おく (一億)** といい, **100000000** と書きます。