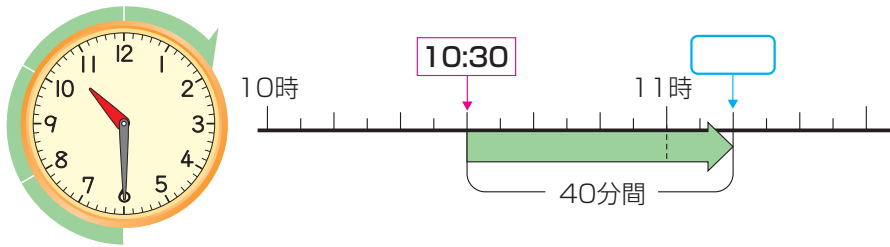


3年	名	
	組前	



にあてはまる言葉や数を書きましょう。

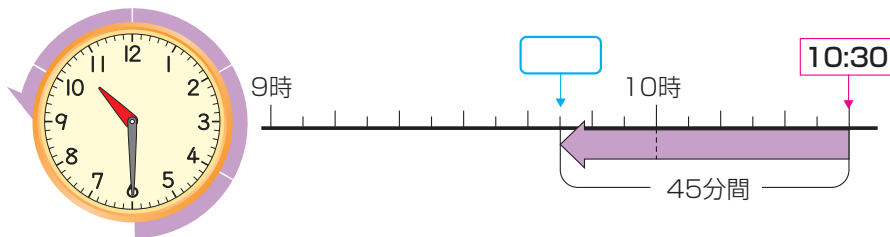
① 午前 10 時 30 分から 40 分後の時こくは何時何分でしょうか。



1 メモリは何分間を
表しているかな。

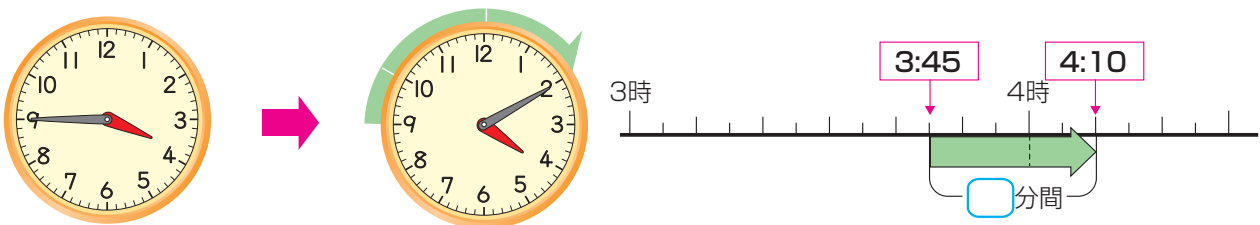
答え

② 午前 10 時 30 分の 45 分前の時こくは何時何分でしょうか。



答え

③ 午後 3 時 45 分から午後 4 時 10 分までの時間は何分間でしょうか。



答え

④ 1 分より短い時間をはかるには、 という単位を使います。

1 分間 = 秒