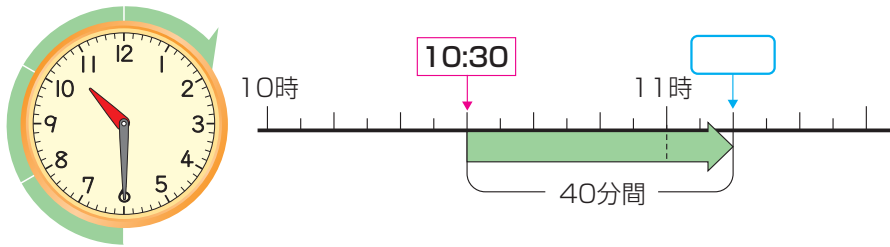


3年	名	
	組前	



にあてはまる言葉や数を書きましょう。

① 午前 10 時 30 分から 40 分後の時くは何時何分でしょうか。

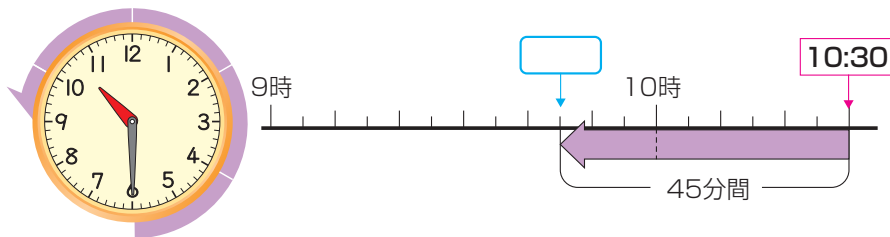


1 めもりは何分間を
あらわ
表しているかな。

答え

午前 11 時 10 分

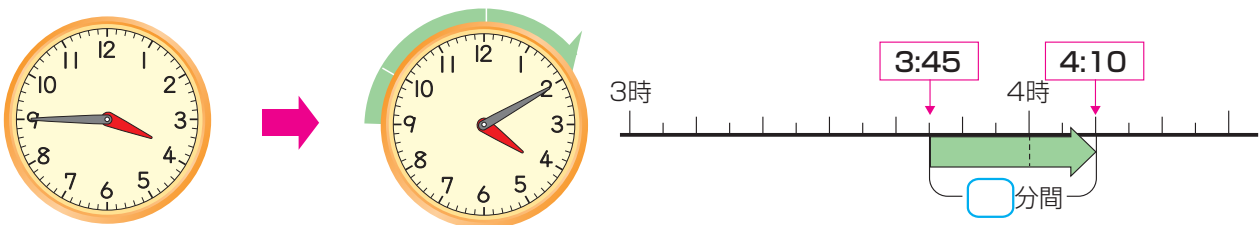
② 午前 10 時 30 分の 45 分前の時くは何時何分でしょうか。



答え

午前 9 時 45 分

③ 午後 3 時 45 分から午後 4 時 10 分までの時間は何分間でしょうか。



答え

25 分間

④ 1 分より短い時間をはかるには, という単位を使います。

1 分間 = 秒