

3年	名	
	組	前

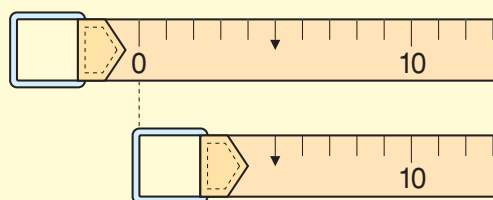


◆まきじゃく

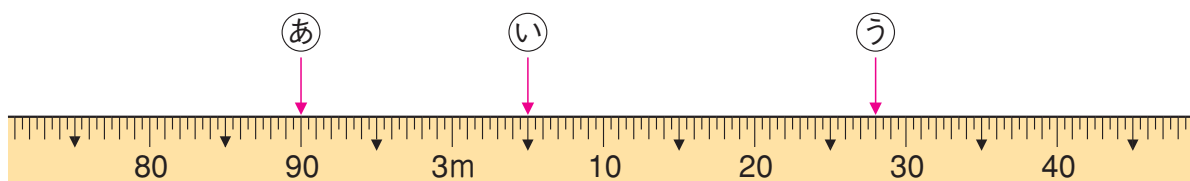
まきじゃくの使い方をおぼえましょう。

① 1 m より長いところの長さをはかるときや、丸いところの長さをはかるときには、**まきじゃく** をつかうとべりです。

② まきじゃくを使うときには、0 のメモリのいちに気をつけて使しましょう。



③ 下のあ、い、うのところのメモリは何 m 何 cm でしょうか。



あ **2m 90cm**

い **3m 5cm**

う **3m 28cm**

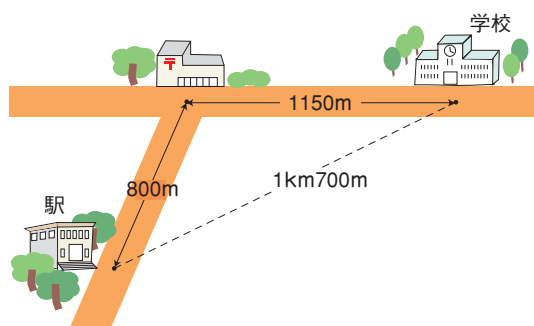
◆道のりときより

① 道にそってはかった長さを **道のり** といいます。

② まっすぐにはかった長さを **きより** といいます。

③ 1000m を 1 キロメートルといい、1 **km** と書きます。

④ 右の図で、学校から駅までのきよりは、**1km 700m** です。



⑤ 右の図で、学校から駅までの道のりは、何 km 何 m でしょうか。

1 km 150m + 800m = **1km 950m**