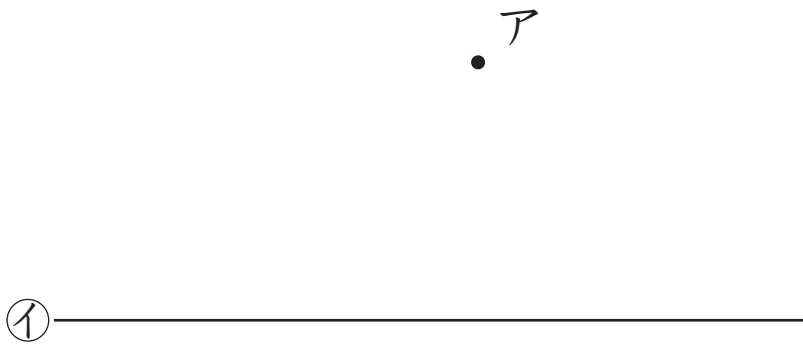
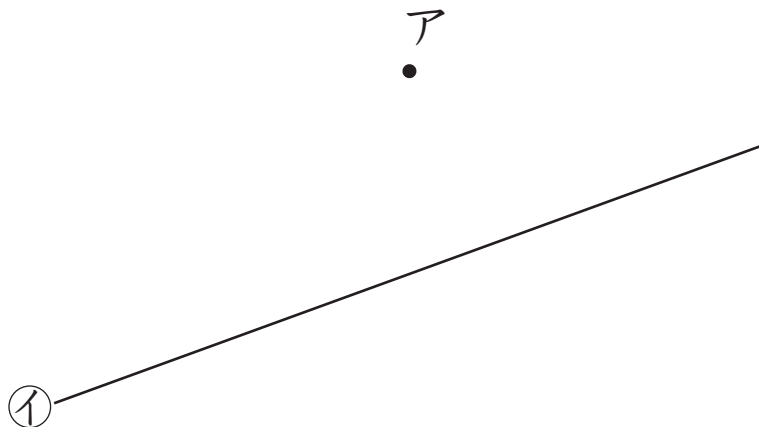


平行な直線のかき方	月	日
組	名前	

- ① 点アを通過して、直線①に平行な直線をかきましょう。

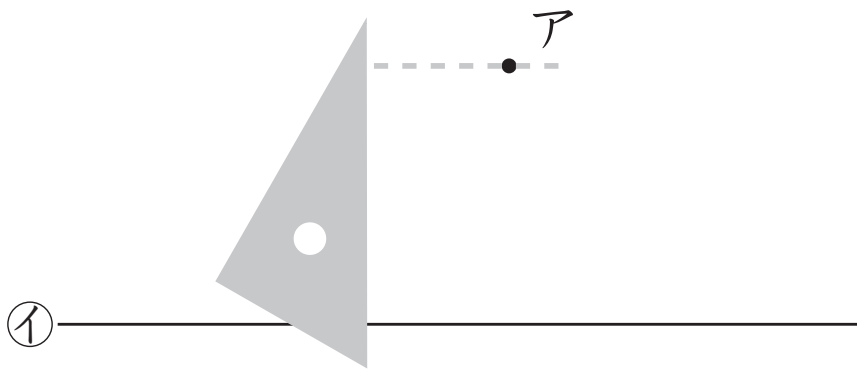


- ② 点アを通過して、直線①に平行な直線をかきましょう。

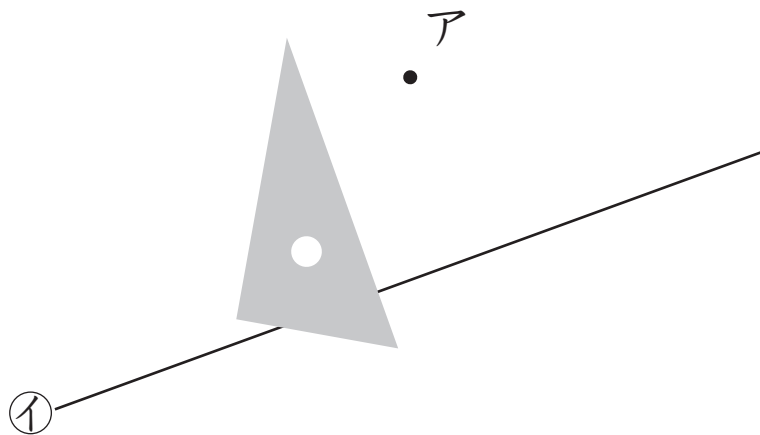


平行な直線のかき方	月	日
組	名前	

- ① 点アを通過して、直線①に平行な直線をかきましょう。



- ② 点アを通過して、直線①に平行な直線をかきましょう。



平行な直線のかき方	月	日
組	名前	

- ① 点ア，イ，ウをかならず1回は通るようにして，平行な2本の直線をかきましょう。(かき方は1通りではありません。)

ア  
•

イ  
•

ウ  
•