

のこりはいくつ 1-①	がつ	にち
くみ なまえ		てん

① けいさんをしまししょう。(40点)

きょうかしよ
p.58 ~ 60

① 5 - 3

② 6 - 2

③ 4 - 1

④ 7 - 2

② きんぎょが7ひきいます。5ひきとります。

きょうかしよ
p.58

のこりはなんびきになるでしょうか。(式10点, 答10点)

しき

こたえ_____

③ あひるが5わいました。2わでていきました。

きょうかしよ
p.59

のこりはなんわになったでしょうか。(式10点, 答10点)

しき

こたえ_____

④ くるまが6だいいます。2だいでていきました。

きょうかしよ
p.60

のこりはなんだいででしょうか。(式10点, 答10点)

しき

こたえ_____

のこりはいくつ 1-②	がつ	にち
くみ なまえ		てん

① けいさんをしましょう。(40点)

きょうかしよ
p.58 ~ 60

① $5 - 2$

② $6 - 3$

③ $5 - 1$

④ $6 - 4$

② きんぎょが5ひきいます。3ひきとります。

きょうかしよ
p.58

のこりはなんびきになるでしょうか。(式10点, 答10点)

しき

こたえ_____

③ つばめが3わいました。2わとびたって

きょうかしよ
p.59

いきました。

のこりはなんわになったでしょうか。(式10点, 答10点)

しき

こたえ_____

④ くるまが5だいいます。2だいでていきました。

きょうかしよ
p.60

のこりはなんだいででしょうか。(式10点, 答10点)

しき

こたえ_____

のこりはいくつ 1-③	がつ	にち
くみ なまえ		てん

① けいさんをしまししょう。(40点)

きょうかしよ
p.58 ~ 60

① $3 - 2$

② $6 - 4$

③ $5 - 3$

④ $2 - 1$

② きんぎょが9ひきいます。8ひきとります。

きょうかしよ
p.58

のこりはなんびきになるでしょうか。(式10点, 答10点)

しき

こたえ_____

③ あひるが7わいました。3わでていきました。

きょうかしよ
p.59

のこりはなんわになったでしょうか。(式10点, 答10点)

しき

こたえ_____

④ くるまが6だいいます。3だいでていきました。

きょうかしよ
p.60

のこりはなんだいででしょうか。(式10点, 答10点)

しき

こたえ_____

のこりはいくつ 2-①	がつ	にち
くみ なまえ		てん

① けいさんをしまししょう。(40点)

きょうかしよ
p.60

① 7-5

② 8-2

③ 10-2

④ 10-9

② こどもが8にんいました。3にんかえりました。

きょうかしよ
p.60

こどもはなんにんになったでしょう。(式10点, 答10点)

しき

こたえ _____

③ 7にんでキャンプにいきました。

きょうかしよ
p.61

そのうち4にんがおとなです。

こどもはなんにんいるでしょう。(式10点, 答10点)


しき

こたえ _____

④ 7にんでどうじに  か  をだしました。

きょうかしよ
p.61

 のひとは5にんでした。

 のひとはなんにんだったでしょう。(式10点, 答10点)

しき

こたえ _____

のこりはいくつ 2-②	がつ	にち
くみ なまえ		てん

① けいさんをしまししょう。(40点)

きょうかしよ
p.60

① 9-7

② 7-2

③ 8-5

④ 6-4

② こどもが6にんいました。3にんかえりました。

きょうかしよ
p.60

こどもはなんにんになったでししょうか。(式10点, 答10点)

しき

こたえ _____

③ 8にんでキャンプにいきました。

きょうかしよ
p.61

そのうち3にんがおとなです。

こどもはなんにんいるでししょうか。(式10点, 答10点)


しき

こたえ _____

④ 10にんでどうじに  か  をだしました。

きょうかしよ
p.61

 のひとは4にんでした。

 のひとはなんにんだったでししょうか。(式10点, 答10点)

しき

こたえ _____

のこりはいくつ 2-③	がつ	にち
くみ なまえ		てん

① けいさんをしましょう。(40点)

きょうかしよ
p.60

① 9-4

② 7-5

③ 8-2

④ 10-3

② こどもが10にんいました。6にんかえりました。
こどもはなんにんになったでしょうか。(式10点, 答10点)
しき





きょうかしよ
p.60

こたえ _____

③ 9にんでキャンプにいきました。
そのうち6にんがおとなです。
こどもはなんにんいるでしょうか。(式10点, 答10点)
しき

きょうかしよ
p.61

こたえ _____

④ 8にんでどうじに  か  をだしました。
 のひとは3にんでした。
 のひとはなんにんだったでしょうか。(式10点, 答10点)
しき

きょうかしよ
p.61

こたえ _____

のこりはいくつ 3-①	がつ	にち
くみ なまえ		てん

① けいさんをしまししょう。(40点)

きょうかしよ
p.62

① 3-1

② 7-4

③ 9-2

④ 10-6

② じどうしゃが8だいありました。

きょうかしよ
p.58~59

5だいでていきました。

のこりはなんだいでしょうか。(式10点, 答10点)

しき

こたえ_____

③ こどもが9にんいます。

きょうかしよ
p.61

そのうち4にんはぼうしをかぶっています。

ぼうしをかぶっていないこどもはなんにんでしょうか。

(式10点, 答10点)

しき

こたえ_____

④ ふうせんが7こあります。

きょうかしよ
p.62

3にんのこどもが1こずつもっていきます。

のこりはなんこになるでしょうか。(式10点, 答10点)

しき

こたえ_____

のこりはいくつ 3-②	がつ	にち
くみ なまえ		てん

① けいさんをしましよ。 (40点)

きょうかしよ
p.62

① $6-2$

② $8-4$

③ $3-1$

④ $10-7$

② ^{ぼおと}ボートが 8 そう ありました。

きょうかしよ
p.58 ~ 59

6 そう でていきました。

のこりは なんそう でしょうか。 (式 10点, 答 10点)

しき

こたえ _____

③ ^{ぼうりんぐ}ボウリングの ピンが 10 ぽん ありました。

きょうかしよ
p.61

その うち 8 ぽん たおれました。

たっている ピンは なんぼん でしょうか。

(式 10点, 答 10点)

しき

こたえ _____

④ ぼうしが 9 こ あります。

きょうかしよ
p.62

6 にんの こどもが 1 こずつ もっていきます。

のこりは なんこ になる でしょうか。 (式 10点, 答 10点)

しき

こたえ _____

のこりはいくつ 3-③	がつ	にち
くみ なまえ		てん

① けいさんをしまししょう。(40点)

きょうかしよ
p.62

① 2-1

② 9-3

③ 7-6

④ 10-1

② すずめが9わいました。

きょうかしよ
p.58~59

そのうち6わとんでいきました。

のこりはなんわででしょうか。(式10点, 答10点)

しき

こたえ_____

③ こどもが7にんいます。

きょうかしよ
p.61

そのうち3にんはめがねをかけています。

めがねをかけていないこどもはなんにんででしょうか。

(式10点, 答10点)

しき

こたえ_____

④ ふうせんが8こあります。

きょうかしよ
p.62

7にんのこどもが1こずつもっていきます。

のこりはなんこになるででしょうか。(式10点, 答10点)

しき

こたえ_____

のこりはいくつ 4-①	がつ	にち
くみ なまえ		てん

① けいさんをしまししょう。(40点)

きょうかしよ
p.63

① 5-5

② 4-4

③ 6-0

④ 0-0

② いちごが4こあります。3こたべると、
のこりはなんこになるでしょうか。(式10点, 答10点)
しき

きょうかしよ
p.63

こたえ _____

③ みかんが4こあります。4こたべると、
のこりはなんこになるでしょうか。(式10点, 答10点)
しき

きょうかしよ
p.63

こたえ _____

④ ^{ばなな}バナナが4ほんあります。1ぽんもたべないと、
のこりはなんぽんでしょうか。(式10点, 答10点)
しき

きょうかしよ
p.63

こたえ _____

のこりはいくつ 4-②	がつ	にち
くみ なまえ		てん

① けいさんをしまししょう。(40点)

きょうかしよ
p.63

① $6-6$

② $2-2$

③ $5-0$

④ $0-0$

② いちごが3こあります。2こたべると、
のこりはなんこになるでしょうか。(式10点, 答10点)
しき

きょうかしよ
p.63

こたえ _____

③ いちごが3こあります。3こたべると、
のこりはなんこになるでしょうか。(式10点, 答10点)
しき

きょうかしよ
p.63

こたえ _____

④ いちごが3こあります。1こもたべないと、
のこりはなんこでしょうか。(式10点, 答10点)
しき

きょうかしよ
p.63

こたえ _____

のこりはいくつ 4-③	がつ	にち
くみ なまえ		てん

① けいさんをしまししょう。(40点)

きょうかしよ
p.63

① $8-8$

② $8-7$

③ $7-0$

④ $0-0$

② いちごが6こあります。5こたべると、
のこりはなんこになるでしょうか。(式10点, 答10点)
しき

きょうかしよ
p.63

こたえ _____

③ みかんが6こあります。6こたべると、
のこりはなんこになるでしょうか。(式10点, 答10点)
しき

きょうかしよ
p.63

こたえ _____

④ ^{ばなな}バナナが6ぽんあります。1ぽんもたべないと、
のこりはなんぽんでしょうか。(式10点, 答10点)
しき

きょうかしよ
p.63

こたえ _____