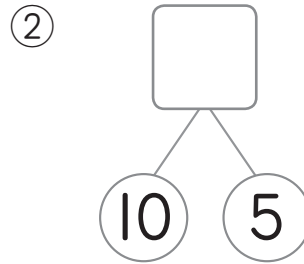
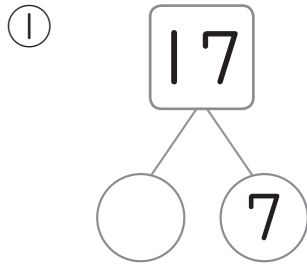


10より大きいかず 1-①		がつ	にち
くみ	なまえ	てん	

① ^{しかく}□や^{まる}○にあてはまるかずをかきましょう。

きょうかしよ
p.79

(20点)



② けいさんをしましょう。(80点)

きょうかしよ
p.83

① $10 + 5$

② $17 - 7$

③ $10 + 7$

④ $14 - 4$

⑤ $10 + 4$

⑥ $19 - 9$

⑦ $10 + 9$

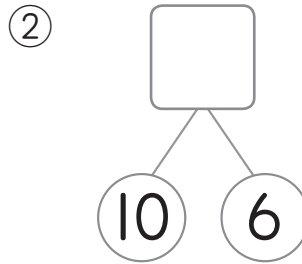
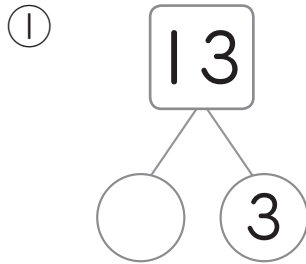
⑧ $11 - 1$

▶▶ 10より大きいかず 1-②		がつ	にち
くみ	なまえ	てん	

① ^{しかく}□や^{まる}○にあてはまるかずをかきましょう。

きょうかしよ
p.79

(20点)



② けいさんをしましょう。(80点)

きょうかしよ
p.83

① $10 + 7$

② $19 - 9$

③ $10 + 5$

④ $16 - 6$

⑤ $4 + 10$

⑥ $11 - 1$

⑦ $8 + 10$

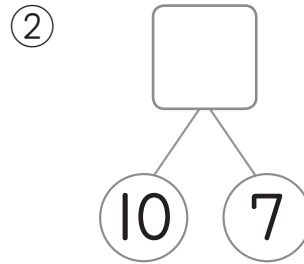
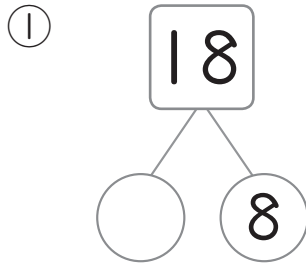
⑧ $15 - 5$

▶▶▶ 10より大きいかず 1-③		がつ	にち
くみ	なまえ	てん	

① ^{しかく}□や^{まる}○にあてはまるかずをかきましょう。

きょうかしよ
p.79

(20点)



② けいさんをしましょう。(80点)

きょうかしよ
p.83

① $10 + 7$

② $13 - 3$

③ $10 + 2$

④ $17 - 7$

⑤ $10 + 5$

⑥ $18 - 8$

⑦ $10 + 6$

⑧ $15 - 5$