

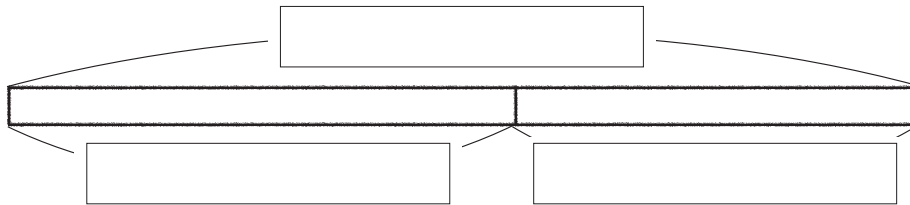
図をつかって考えよう 1-①		月	日
組 名前		点	

① バスに 15 人のっていました。

とちゅうで何人かの^{なん}ってきたので、ぜんぶで
27 人になりました。

とちゅうでのってきた人は何人ですか。

① とちゅうでのってきた^{にんずう}人数を□人として、
テープ^ず図にあらわしましょう。(20点)



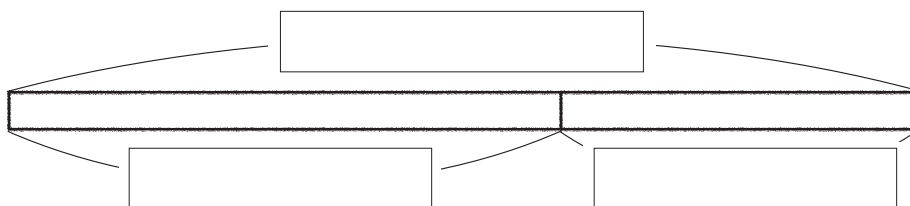
② ^{しき}式を書いて、^{こた}答えをもとめましょう。(式 15 点, 答 15 点)
式

答え_____

② チョコレートが何こかありました。

8 こ^た食べたので、のこりが 12 こになりました。
はじめにチョコレートは何こありましたか。

① はじめの^{かず}数を□ことして、テープ図に
あらわしましょう。(20点)




② 式を書いて、答えをもとめましょう。(式 15 点, 答 15 点)
式

答え_____

教科書
p.84 ~ 85

教科書
p.86 ~ 87

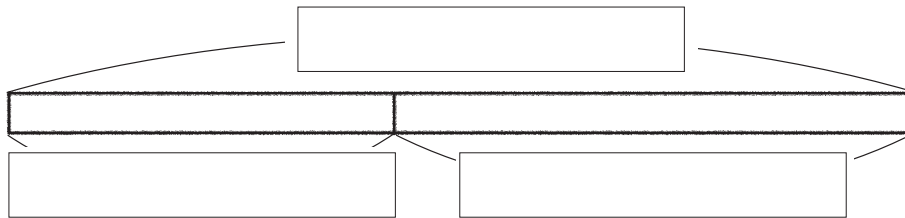
 図をつかって考えよう 1-②		月	日
組	名前	点	

① バスに 12 人のっていました。

とちゅうで何人かの^{なん}ってきたので、ぜんぶで
28 人になりました。

とちゅうでのってきた人は何人ですか。

- ① とちゅうでのってきた^{にんずう}人数を□人として、
テープ^ず図にあらわしましょう。(20点)



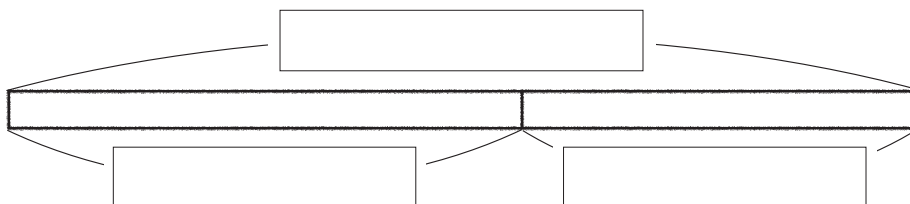
- ② ^{しき}式を書いて、^{こた}答えをもとめましょう。(式 15 点, 答 15 点)
- 式

答え_____

② チョコレートが何こかありました。

10 こ^た食べたので、のこりが 13 こになりました。
はじめにチョコレートは何こありましたか。

- ① はじめの^{かず}数を□ことして、テープ^ず図に
あらわしましょう。(20点)



- ② 式を書いて、答えをもとめましょう。(式 15 点, 答 15 点)
- 式

答え_____

教科書
p.84 ~ 85

教科書
p.86 ~ 87

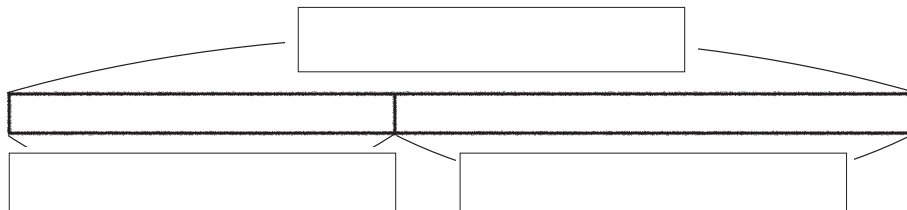
 図をつかって考えよう 1-③		月	日
組 名前		点	

① バスに14人の^{なん}っていました。

とちゅうで何人かの^{なん}ってきたので、ぜんぶで
29人になりました。

とちゅうでのってきた人は何人ですか。

① とちゅうでのってきた^{にんずう}人数を□人として、
テープ^ず図にあらわしましょう。(20点)



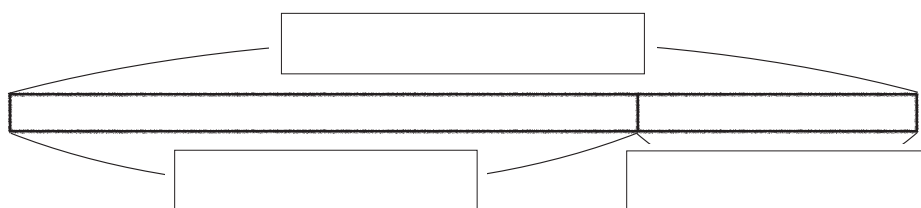
② ^{しき}式を書いて、^{こた}答えをもとめましょう。(式15点, 答15点)
式

答え_____

② チョコレートが何こかありました。

6こ^た食べたので、のこりが13こになりました。
はじめにチョコレートは何こありましたか。

① はじめの^{かず}数を□ことして、テープ図に
あらわしましょう。(20点)



② 式を書いて、答えをもとめましょう。(式15点, 答15点)
式

答え_____

教科書
p.84~85

教科書
p.86~87

図をつかって考えよう 2-①		月	日
組	名前	点	

① ケーキが 25 こありました。 教科書 p.84

^{なん}何こかもってきたので、ぜんぶで 40 こになりました。

もってきたケーキは何こですか。 (式 15 点, 答 10 点)

^{しき}式

^{こた}答え _____

② みかんが何こありました。 教科書 p.84

6 こもらったので、ぜんぶで 20 こになりました。

はじめにみかんは何こありましたか。 (式 15 点, 答 10 点)

式

答え _____

③ シールを 9 まいあげたら, 6 まいのこりました。 教科書 p.86

はじめにシールは何まいありましたか。 (式 15 点, 答 10 点)

式

答え _____


④ 25m のリボンがありました。 教科書 p.88

何 m かつかったので, のこりが 18m になりました。

つかったリボンは何 m ですか。 (式 15 点, 答 10 点)

式

答え _____

 図をつかって考えよう 2-②		月	日
組	名前	点	

① ケーキが 20 こありました。 教科書 p.84

^{なん}何こかもってきたので、ぜんぶで 35 こになりました。

もってきたケーキは何こですか。 (式 15 点, 答 10 点)

^{しき}式

^{こた}答え _____

② みかんが何こありました。 教科書 p.84

14 こもらったので、ぜんぶで 36 こになりました。

はじめにみかんは何こありましたか。 (式 15 点, 答 10 点)

式

答え _____

③ シールを 15 まいあげたら, 18 まいのこりました。 教科書 p.86

はじめにシールは何まいありましたか。 (式 15 点, 答 10 点)

式

答え _____


④ 26m のリボンがありました。 教科書 p.88

何 m かつかったので, のこりが 17m になりました。

つかったリボンは何 m ですか。 (式 15 点, 答 10 点)

式

答え _____

 図をつかって考えよう 2-③		月	日
組	名前	点	

① ケーキが 15 こありました。 教科書 p.84

^{なん}何こかもってきたので、ぜんぶで 22 こになりました。

もってきたケーキは何こですか。 (式 15 点, 答 10 点)

^{しき}式

^{こた}答え _____

② みかんが何こありました。 教科書 p.84

9 こもらったので、ぜんぶで 27 こになりました。

はじめにみかんは何こありましたか。 (式 15 点, 答 10 点)

式

答え _____

③ シールを 6 まいあげたら, 15 まいのこりました。 教科書 p.86

はじめにシールは何まいありましたか。 (式 15 点, 答 10 点)

式

答え _____

④ 35m のリボンがありました。 教科書 p.88

何 m かつかったので, のこりが 19m になりました。

つかったリボンは何 m ですか。 (式 15 点, 答 10 点)

式

答え _____