

10000 より大きい数 1-①		月	日
組	名前	点	

① ^{つぎ} 次の数を数字で書きましょう。(30点)

教科書
p.107 ~ 110

① 千三百四十二万六千七百七十九

13420679

② 百八万九千八百七

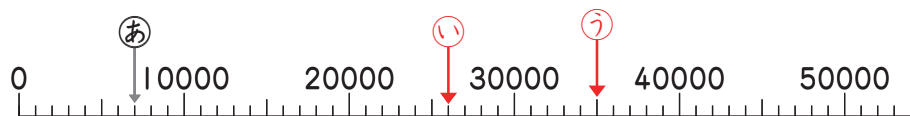
1089807

③ 1000 万を 2 こと, 100 万を 6 こと, 10 万を 7 こと,
1 万を 5 ことあわせた数

26750000

② 下の㉠と同じように, ㉡, ㉢の数を^{あらわ}表すめもりに
↓を書きましよう。(20点)

教科書 p.111



(例) ㉠ 7000

㉡ 26000

㉢ 30000 と 5000 をあわせた数

③ 130000 について答えましよう。(20点)

教科書 p.111

① 130000 は, 10000 を こあつめた数

② 130000 は, 1000 を こあつめた数

④ 数の大小をくらべて, にあてはまる^{とうごう}等号か^ふ不等号を
書きましよう。(30点)

教科書 p.112

① $40000 + 7000$ 47000

② $6000 \text{ 万} + 3000 \text{ 万}$ $9000 \text{ 万} - 500 \text{ 万}$

③ 2000 万 $1500 \text{ 万} + 50 \text{ 万}$

10000 より大きい数 1-②		月	日
組	名前	点	

① ^{つぎ} 次の数を数字で書きましょう。(30点)

教科書
p.107 ~ 110

① 千百八十二万千五百七十三

11821573

② 七百三十六万六千七十九

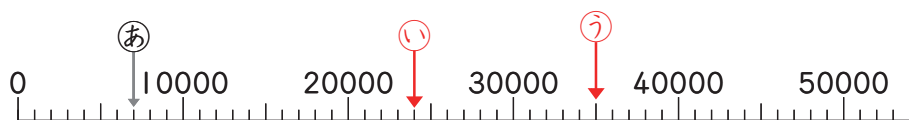
7366079

③ 1000 万を 4 こと, 100 万を 7 こと, 10 万を 5 こと,
1 万を 9 こあわせた数

47590000

② 下の^{あらわ}㉞と同じように, ㉞, ㉞の数を表すめもりに
↓を書きましよう。(20点)

教科書p.111



(例) ㉞ 7000

㉞ 24000

㉞ 35000

③ 120000 について答えましよう。(20点)

教科書p.111

① 120000 は, 10000 を こあつめた数

② 120000 は, 1000 を こあつめた数

④ 数の大小をくらべて, にあてはまる等号か不等号を
書きましよう。(30点)

教科書p.112

① $2000 + 30000$ 35000

② 10000 $5000 + 5000$

③ 5000 万 + 2000 万 8000 万 - 2000 万

▶▶▶ 10000 より大きい数 1-③		月	日
組	名前	点	

Ⅰ つぎの数を数字で書きましょう。(30点)

教科書
p.107 ~ 110

① 千三百六十八万二千八百七

13682807

② 八百五万千七百九


8051709

③ 1000万を6こと、100万を2こと、10万を7こと、
1万を8こあわせた数

62780000

Ⅱ 下の㉠と同じように、㉡、㉢の数を表すめもりに
↓を書きましよう。(20点)

教科書 p.111



(例) ㉠ 7000

㉡ 35000

㉢ 46000

Ⅲ 180000 について答えましよう。(20点)

教科書 p.111

① 180000 は、10000 を こあつめた数

② 180000 は、1000 を こあつめた数

Ⅳ 数の大小をくらべて、 にあてはまる等号か不等号を
書きましよう。(30点)

教科書 p.112

① $5000 + 80000$ 89000

② 100000 $80000 + 20000$

③ 9000 万 $- 6000$ 万 800 万 $+ 2000$ 万

10000 より大きい数 2-①		月	日
組	名前	点	

① 次の数を 10 倍した数を書きましょう。(20点)

教科書p.113

① 45

② 240

② 次の数を 100 倍した数を書きましょう。(20点)

教科書p.114

① 15

② 2万

③ 次の数を 1000 倍した数を書きましょう。(20点)

教科書p.114

① 37

② 800

④ 次の数を 10 でわった数を書きましょう。(30点)

教科書
p.114 ~ 115

① 20

② 360

③ 200万

⑤ □ にあてはまる言葉や数を書きましょう。(10点)

教科書p.115

1000 万を 10 倍した数を といい、数字で

と書きます。

▶▶ 10000 より大きい数 2-②		月	日
組	名前	点	

① 次の数を 10 倍した数を書きましょう。(20点)

教科書p.113

① 25

② 660

② 次の数を 100 倍した数を書きましょう。(20点)

教科書p.114

① 785

② 1万

③ 次の数を 1000 倍した数を書きましょう。(20点)

教科書p.114

① 27

② 500

④ 次の数を 10 でわった数を書きましょう。(30点)

教科書
p.114 ~ 115

① 80

② 420

③ 100万

⑤ □ にあてはまる言葉や数を書きましょう。(10点)

教科書p.115

1000万を 10 倍した数を といい、数字で

と書きます。

▶▶▶ 10000 より大きい数 2-③		月	日
組 名前		点	

① 次の数を 10^{つぎ} 倍した数^{ばい}を書きましょう。(20点)

教科書p.113

① 48

480

② 390

3900

② 次の数を 100 倍した数を書きましょう。(20点)

教科書p.114

① 18

1800

② 800

80000

③ 次の数を 1000 倍した数を書きましょう。(20点)

教科書p.114

① 785

785000

② 1万

1000万

④ 次の数を 10 でわった数を書きましょう。(30点)

教科書
p.114 ~ 115

① 50

5

② 760

76

③ 960

96

⑤ □ にあてはまる^{ことば}言葉や数を書きましょう。(10点)

教科書p.115

1000 万を 10 倍した数を 一億 といい、数字で

100000000

と書きます。