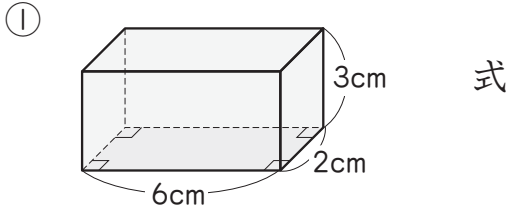


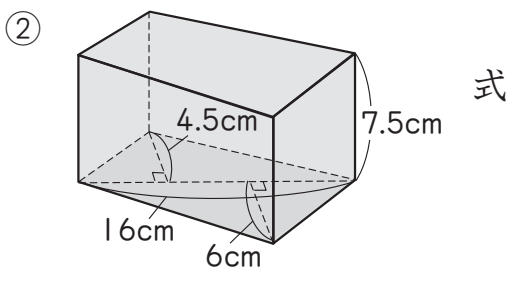
角柱と円柱の体積 1-①		月	日
組 名前		点	

① 次のような角柱の体積を求めましょう。(式 10点, 答 10点)

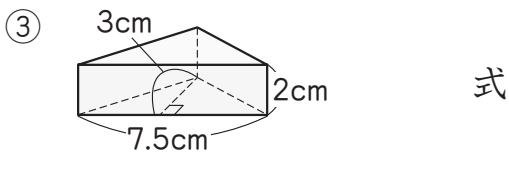
教科書 p.141~143



答え _____



答え _____



答え _____

② 右のような展開図^{てんかいず}を組み立てて立体を作ります。

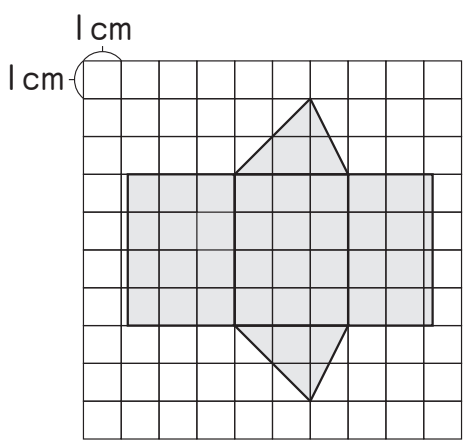
教科書 p.147

① 何という立体ができますか。

(10点)

② この立体の体積を求めましょう。(式 15点, 答 15点)

式

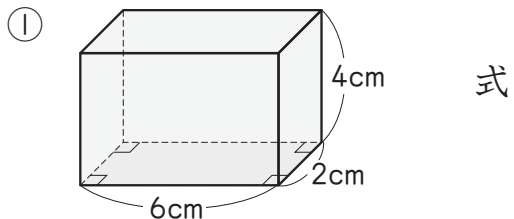


答え _____

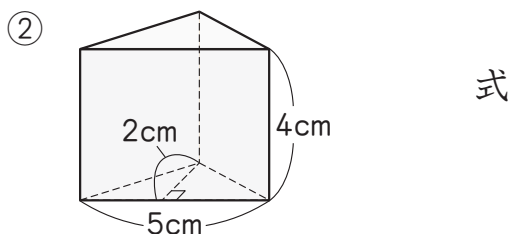
角柱と円柱の体積 1-②		月	日
組 名前		点	

Ⅰ 次のような角柱の体積を求めましょう。(式10点, 答10点)

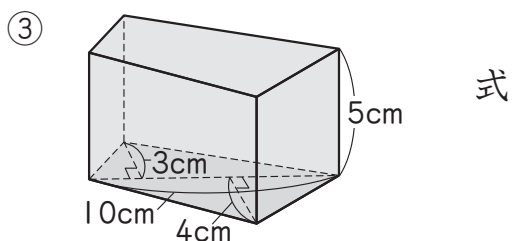
教科書 p.141~143



答え _____



答え _____



答え _____

Ⅱ 右のような展開図^{てんかいず}を組み立てて立体を作ります。

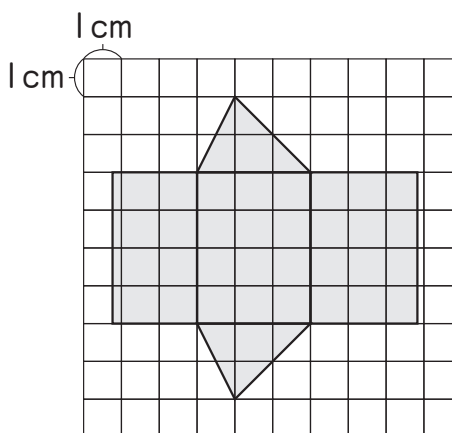
教科書 p.147

① 何という立体ができますか。

(10点)

② この立体の体積を求めましょう。(式15点, 答15点)

式

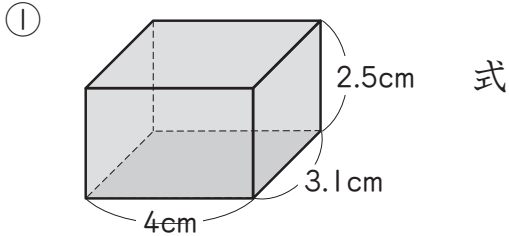


答え _____

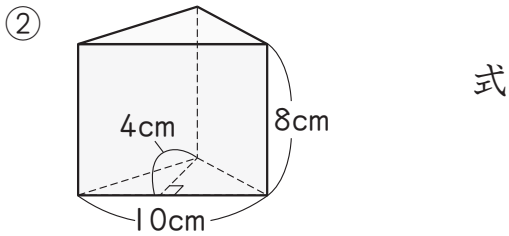
<p>▶▶▶ 角柱と円柱の体積 1-③</p>		<p>月 日</p>
<p>組 名前</p>	<p>点</p>	

① 次のような角柱の体積を求めましょう。(式10点, 答10点)

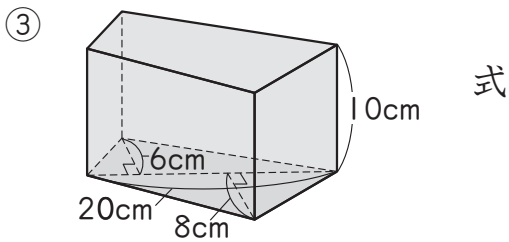
教科書 p.141~143



答え _____



答え _____



答え _____

② 右のような展開図^{てんかいず}を組み立てて立体を作ります。

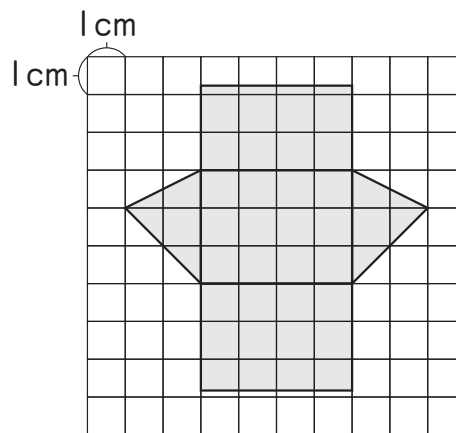
教科書 p.147

① 何という立体ができますか。

(10点)

② この立体の体積を求めましょう。(式15点, 答15点)

式



答え _____

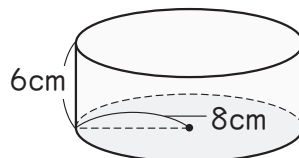
角柱と円柱の体積 2-①		月	日
組	名前	点	

① 右のような円柱があります。

① 底面積は何 cm^2 ですか。

(式 10 点, 答 10 点)

式



教科書 p.144

答え _____

② この円柱の体積を求めましょう。(式 10 点, 答 10 点)

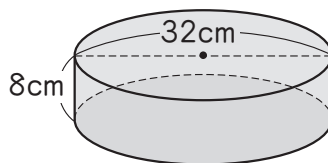
式

答え _____

② 右のような円柱の体積を求めましょう。

(式 10 点, 答 10 点)

式



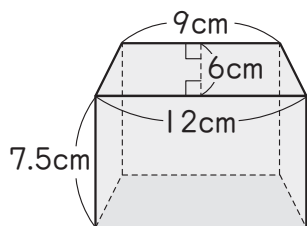
教科書 p.144

答え _____

③ 次のような角柱や円柱の体積を求めましょう。

(式 10 点, 答 10 点)

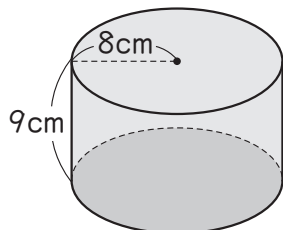
①



式

答え _____

②



式

答え _____

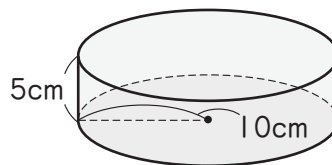
角柱と円柱の体積 2-②		月	日
組	名前	点	

① 右のような円柱があります。

① 底面積は何 cm^2 ですか。

(式 10 点, 答 10 点)

式



教科書 p.144

答え _____

② この円柱の体積を求めましょう。(式 10 点, 答 10 点)

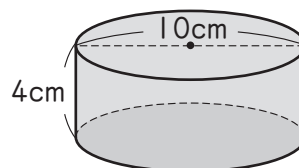
式

答え _____

② 右のような円柱の体積を求めましょう。

(式 10 点, 答 10 点)

式



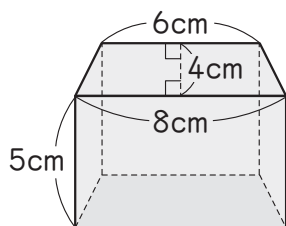
教科書 p.144

答え _____

③ 次のような角柱や円柱の体積を求めましょう。

(式 10 点, 答 10 点)

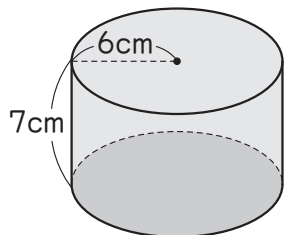
①



式

答え _____

②



式

答え _____

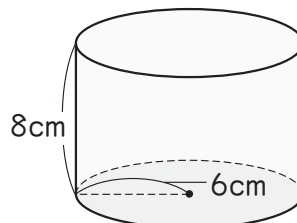
角柱と円柱の体積 2-③		月	日
組	名前	点	

① 右のような円柱があります。

① 底面積は何 cm^2 ですか。

(式 10 点, 答 10 点)

式



教科書 p.144

答え _____

② この円柱の体積を求めましょう。(式 10 点, 答 10 点)

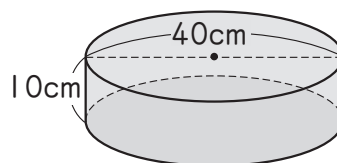
式

答え _____

② 右のような円柱の体積を求めましょう。

(式 10 点, 答 10 点)

式



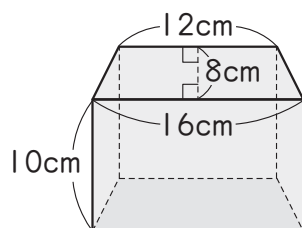
教科書 p.144

答え _____

③ 次のような角柱や円柱の体積を求めましょう。

(式 10 点, 答 10 点)

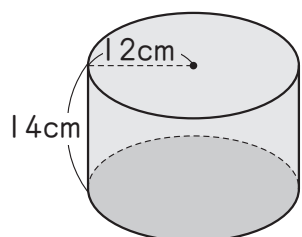
①



式

答え _____

②



式

答え _____

教科書 p.144